

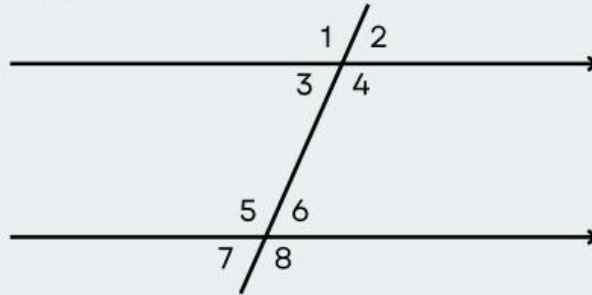
Nama :

No :

Kelas :

Sumatif Harian Hubungan Sudut dan Kedudukan Titik, Garis, Bidang

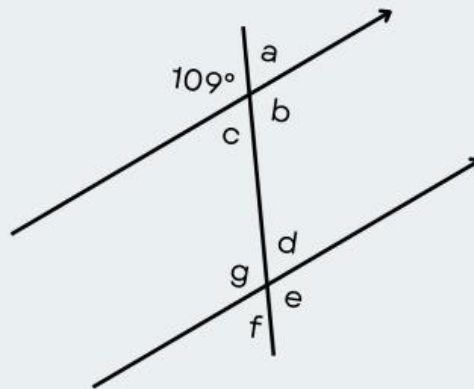
- 1) Berdasarkan gambar berikut, jawablah pertanyaan-pertanyaan berikut.



- a) Nyatakan hubungan antara $\angle 1$ dan $\angle 5$

- b) Nyatakan hubungan antara $\angle 4$ dan $\angle 5$

- 2) Hitung sudut yang hilang pada gambar:



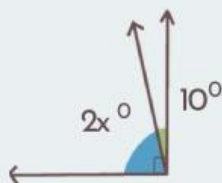
a)

c)

e)

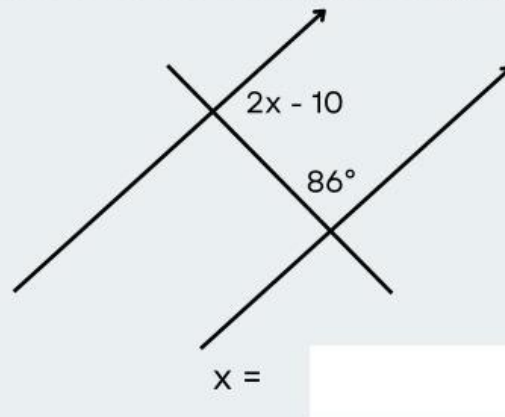
g)

- 3) Hitung nilai x pada gambar:




$x =$

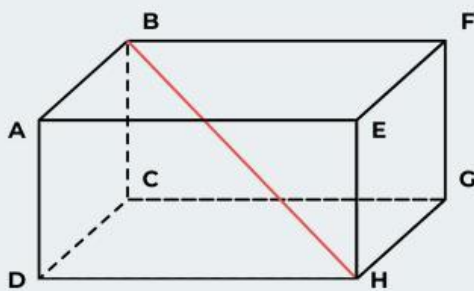
4) Carilah nilai x° beserta cara menghitungnya!



5) Carilah nilai p pada gambar!



6)



- a) Hubungan titik D dengan bidang EFGH
- b) Hubungan garis BH dengan garis DF
- c) Hubungan garis AB dengan garis EH
- d) Bidang yang sejajar dengan bidang BCGF