

Lembar Kerja Peserta Didik

LKPD

Ilmu Pengetahuan Alam dan Sosial (IPAS)

Untuk Kelas 5 SD/MI

Mengenal Indonesia Melalui Peta

Nama:

Kelas:



Mengidentifikasi Komponen-Komponen Peta

CP: Murid menggunakan peta konvensional/digital untuk mengenal letak dan kondisi geografi negara Indonesia.

Tujuan Pembelajaran :

1. Menjelaskan bagian-bagian peta dan fungsinya
2. Menunjukkan letak dan kondisi geografis wilayah Indonesia

Petunjuk Kerja :

1. Tulislah Nama dan Kelas pada halaman Pertama dengan mengklik kotak Nama dan Kelas.
2. Ikuti alur kerja LKPD ini sesuai arahan dan petunjuk yang ada.
3. Jika kamu diminta menonton video, klik pada tombol yang sudah disediakan.
4. Jika kamu diminta mengerjakan kuis, kerjakan dengan baik dan benar sesuai petunjuk.
5. Untuk melakukan Tes Evaluasi, Klik sesuai arahan.



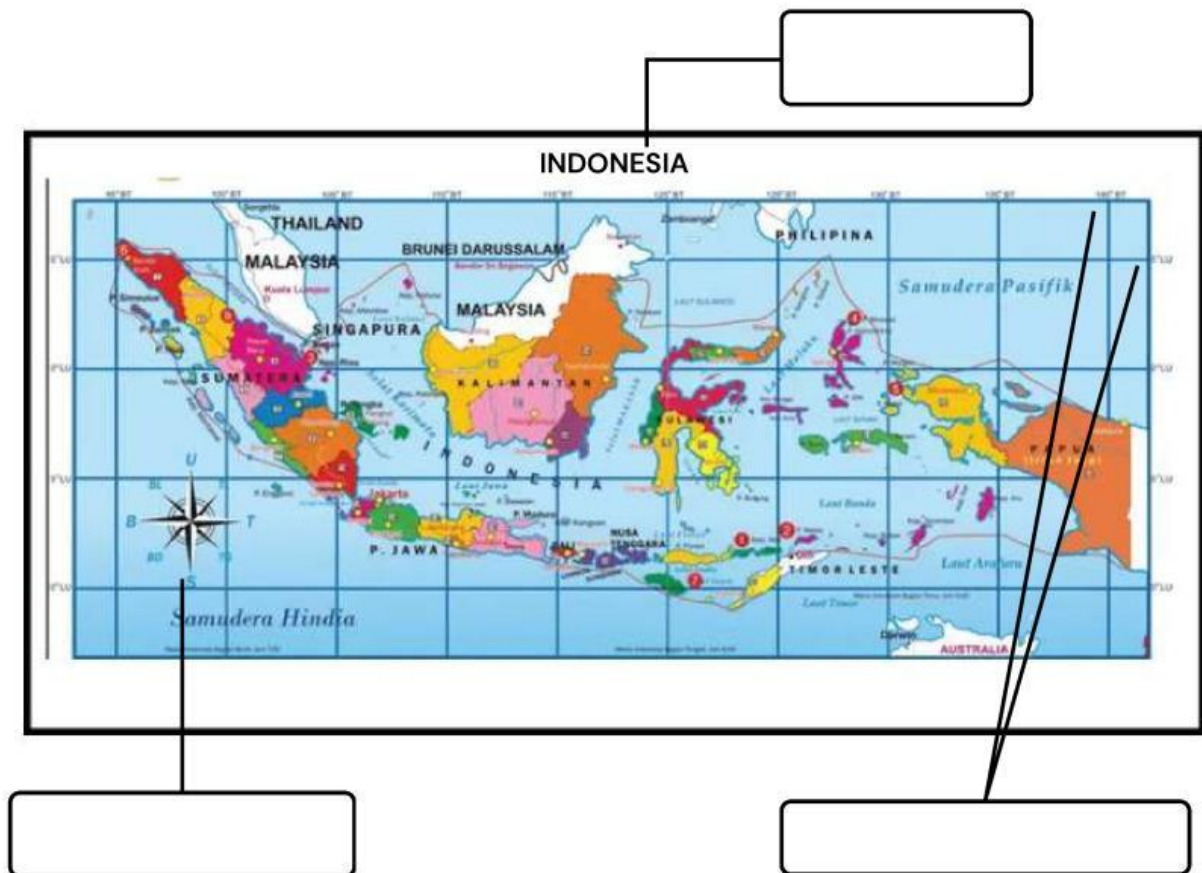
Perhatikan Peta Dibawah ini!



Jika tersesat di suatu tempat dan peta yang kita miliki tidak ada keterangan arah, skala, atau simbolnya, apa yang akan terjadi? Bagaimana cara kita membaca arah negara Indonesia jika petanya kosong seperti ini?

Mengidentifikasi Komponen-Komponen Peta

Perhatikanlah gambar peta di bawah ini, kemudian seret komponen peta yang menurut kamu benar pada kotak-kotak yang telah disediakan.



Pilihan Komponen-Komponen Peta

Legenda

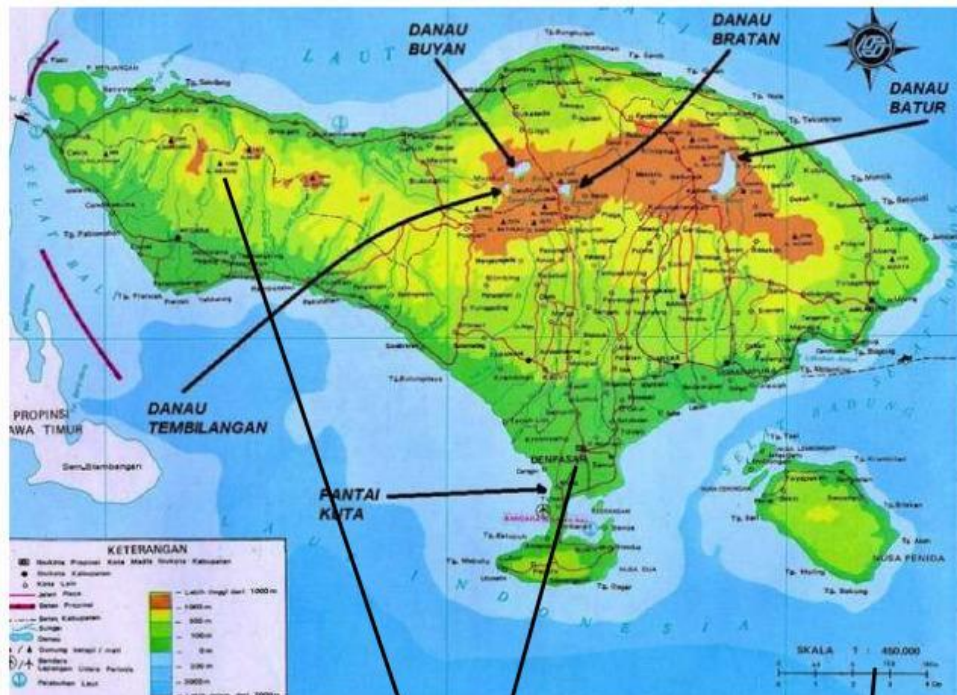
Arah Mata Angin

Titik Koordinat

Judul

Mengidentifikasi Komponen-Komponen Peta

Perhatikanlah gambar peta di bawah ini, kemudian sebutkan komponen-komponen utama yang kamu lihat pada peta tersebut!
Tulis jawabanmu pada kotak-kotak yang telah disediakan.



Pilihan Komponen-Komponen Peta

Simbol Titik

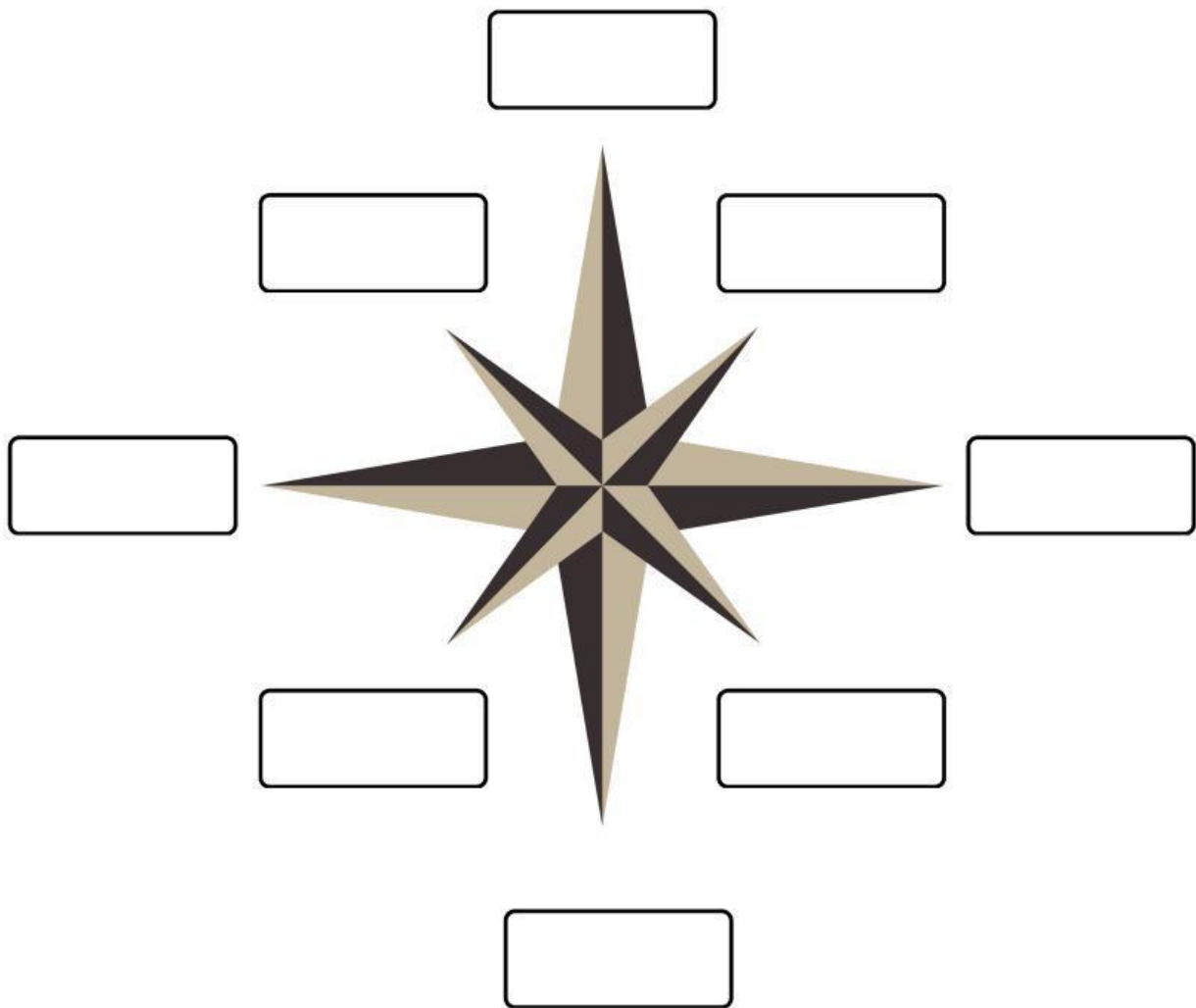
Legenda

Skala

Orientasi

Menulis Arah Mata Angin Pada Kompas

Perhatikanlah gambar komponen di bawah ini, dan isilah jawaban pada kotak-kotak di bawah, sesuai arah pada kompas.



Dengarkan suara berikut, kemudian tuliskan jawabannya pada kotak yang sudah disiapkan !

