

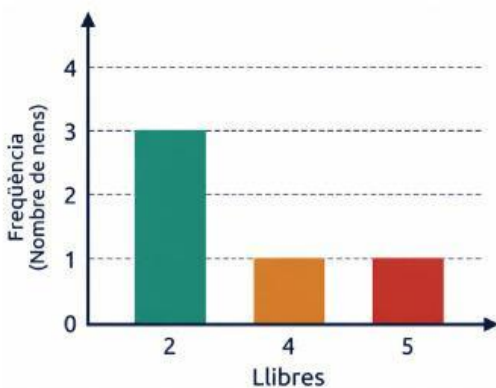
6 Exercicis: Mitjana, Mediana i Moda a partir de Gràfics



Recorda:

- **Mitjana:** Suma totes les dades i divideix entre el nombre total.
- **Mediana:** El número del mig quan les dades estan ordenades de menor a major.
- **Moda:** El número que més es repeteix.

Exercici 1: Llibres llegits



Aquest gràfic mostra quants llibres han llegit 5 amics en un mes (les dades són: 2, 2, 2, 4, 5). Calcula la mitjana, la mediana i la moda.

.....

.....

.....

Exercici 2: Hores d'esport

Hores d'esport a la setmana



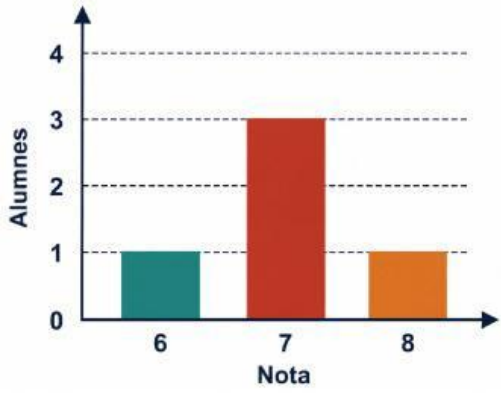
El gràfic de punts mostra les hores d'esport que fan 5 alumnes (les dades són: 1, 2, 3, 3, 3). Troba la mitjana, la mediana i la moda.

.....

.....

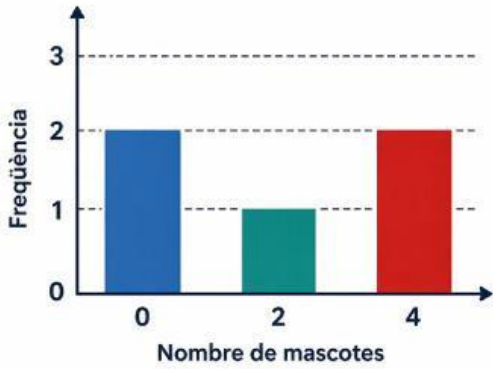
.....

Exercici 3: Notes de l'examen de mates



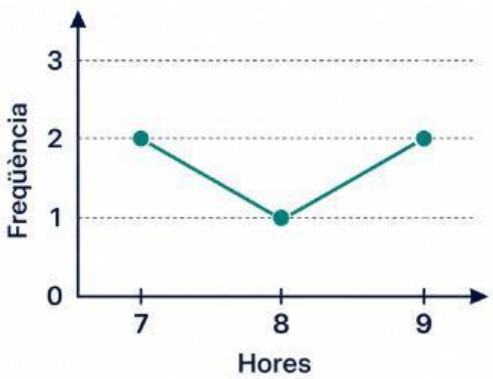
Aquestes són les notes de 5 alumnes: 6, 7, 7, 7, 8.
Observa el gràfic i calcula les tres mesures.

Exercici 4: Mascotes per família 🐶



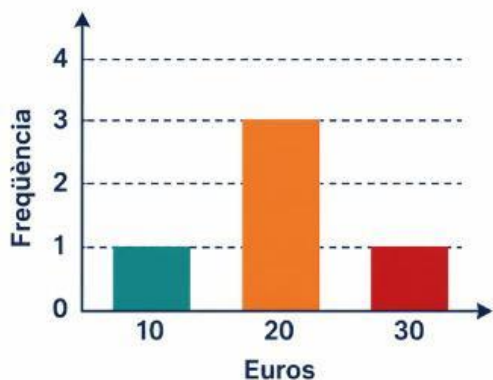
El gràfic mostra el nombre de mascotes de 5 famílies (les dades són: 0, 0, 2, 4, 4). Calcula la mitjana, la mediana i la moda.

Exercici 5: Hores de son 🛌



Aquest gràfic de línies indica quantes hores han dormit 5 companys de classe (les dades són: 7, 7, 8, 9, 9). Quina és la mitjana, la mediana i la moda?

Exercici 6: Diners estalviats 💰



L'últim gràfic mostra els euros que han estalviat 5 nens (les dades són: 10, 20, 20, 20, 30). Calcula la mitjana, la mediana i la moda.
