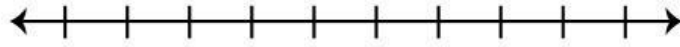


Matemáticas tema 10

1. Señala dos puntos en esta recta (A y B) que marquen un segmento de 6 cm

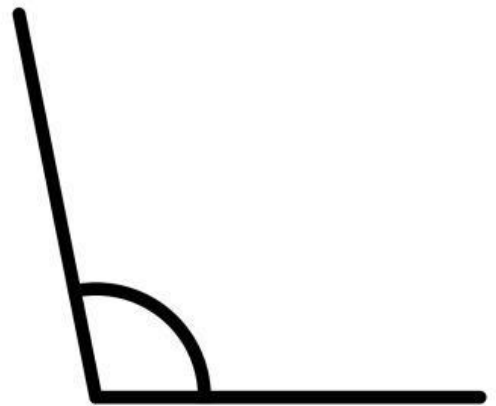
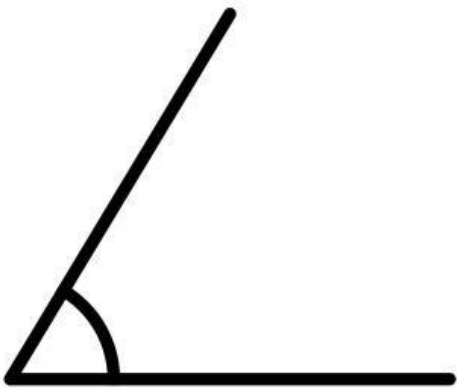


2. Traza una semirrecta con origen C que pase por D.

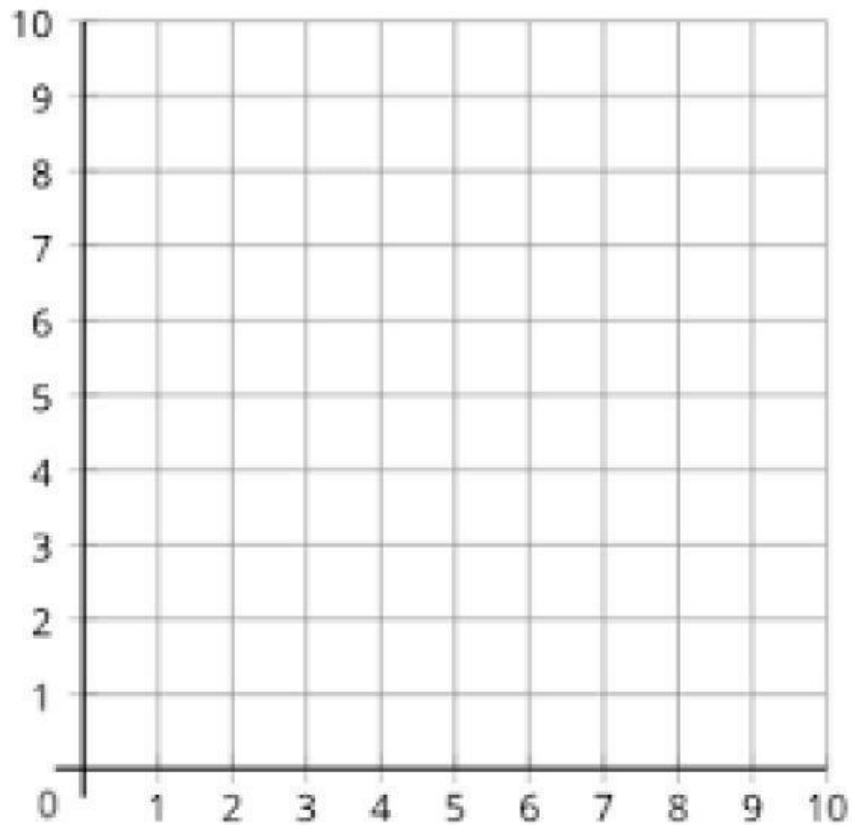
C

D

3. ¿Cuál de estos ángulos mide 60° ? Indica la amplitud, el vértice y sus lados.



4. Señala en el plano los asientos que han conseguido estos cinco amigos.



- Luna tiene el asiento (2,4)
- Pedro ha conseguido la butaca (3,2)
- Laura se sentará en (2,6)
- Mariola verá la película desde (2,10)
- En la entrada de Setgio figura (3,6)
- ¿Qué amigos se sientan juntos?
- ¿Quién es el que está más cerca de la pantalla?
- ¿Quién se sienta más alejado del resto?