

ВЧИМОСЯ ДОДАВАТИ І ВІДНІМАТИ ЧИСЛА



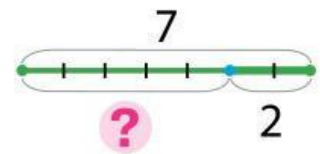
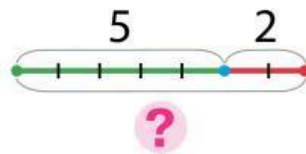
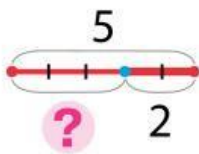
1 Добери схему та вираз до малюнка.



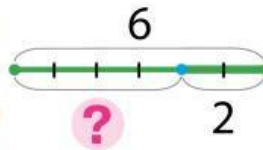
$5 - 2$

$5 + 2$

$7 - 2$



2 Добери малюнок до схеми.



3 Поясни, як закінчити обчислення. Обчисли за зразками.

$$8 + 2 = \boxed{8 + 1} + 1 = \boxed{} + 1 = \boxed{}$$

$$8 - 2 = \boxed{8 - 1} - 1 = \boxed{} - 1 = \boxed{}$$

$3 - 2$

$7 + 2$

$6 + 2$

$5 - 2$

$9 - 2$

$5 + 2$

$3 + 2$

$7 - 2$

$6 - 2$

$2 + 2$

$8 + 2$

$4 - 2$

4 Обчисли. Прочитай рівності на додавання.

$8 - 1$

$6 + 1$

$7 + 1$

$0 + 9$

$4 - 0$

$9 + 1$

$8 - 0$

$5 - 5$

$7 - 7$

$0 + 4$

$0 + 6$

$8 + 2$

$0 + 10$

$5 + 0$

$9 - 1$

$4 - 4$

$3 - 0$

$6 - 0$

$10 - 1$

$9 - 9$

