



20

حل بمفرده	
حل بمساعدة المعلمة	
لم يحل	

قسم الحوسبة وتكنولوجيا المعلومات
تقييم شامل للمهارات النظرية نهاية الفصل الثاني
الصف الثاني

الاسم: الصف: الثاني التاريخ: / 5 / 2026



الاختبار النظري

الاختبار العملي

الوحدة الثانية: أنا أזור العالم

الدرس الرابع: الألعاب التعليمية

كتاب الطالب : من صفحة 46 إلى 47

كتاب التدريبات والأنشطة صفحة 39

الوحدة الثالثة: الرمجة الرسومية

الدرس الأول: بدء استخدام برنامج TurtleArt .

كتاب الطالب : صفحة 55

كتاب التدريبات والأنشطة صفحة 45

الدرس الثاني: تحريك السلحفاة.

كتاب الطالب : صفحة 66

كتاب التدريبات والأنشطة: من صفحة 47 إلى 51

الدرس الثالث: رسم الأشكال.

كتاب الطالب من صفحة 68 إلى 74

كتاب التدريبات والأنشطة من صفحة 53 إلى 55

الوحدة الثالثة: الرمجة الرسومية

الدرس الأول: بدء استخدام برنامج TurtleArt .

كتاب الطالب : من صفحة 56 إلى 57

كتاب التدريبات والأنشطة صفحة 45

الدرس الثاني: تحريك السلحفاة.

كتاب الطالب : من صفحة 58 إلى 67

كتاب التدريبات والأنشطة: من صفحة 47 إلى 51

الدرس الثالث: رسم الأشكال.

كتاب الطالب من صفحة 68 إلى 74

كتاب التدريبات والأنشطة من صفحة 53 إلى 55

الوحدة الثانية الدرس الرابع: الألعاب التعليمية من صفحة 46 إلى 47

السؤال الأول: صل بين عمودين.

3



1 تستطيع أن ترى العالم.

1



Google Earth

2 مكتبة قطر الوطنية.

2



3 زيارة المتاحف

3

السؤال الثاني: أجب عن الأسئلة بوضع علامة صح (✓) أسفل الصورة المناسبة

1

من خدمات الانترنت زيارة المتاحف.



الوحدة الثالثة الدرس الأول : بدء استخدام برنامج TurtleArt صفحة 55

السؤال الثالث: اختر الإجابة الصحيحة:

1

1- لغة خاصة لإصدار الأوامر للحاسوب.

لغة الإشارة

اللغة العربية

لغة الحاسوب

السؤال الرابع: صل بين عمودين.

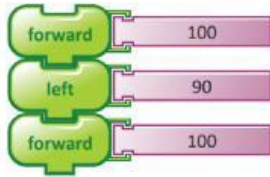
2



TurtleArt

الأوامر.

1



برنامج يستخدم أوامر بسيطة لرسم أشكال هندسية ورسومات فنية.

2

السؤال الخامس: أجب عن الأسئلة بوضع علامة صح (✓) أسفل الصورة المناسبة.

1

1- برنامج يستخدم أوامر بسيطة لرسم أشكال هندسية ورسومات فنية.



الوحدة الثالثة الدرس الثاني : تحريك السلحفاة صفحة 66

2

السؤال السادس: اختر الإجابة الصحيحة.

1- الخط الذي تتركه السلحفاة خلفها وهي تسير.

الكتاب

الممحاة

القلم

2- أداة القلم لأسفل.



السؤال السابع: صل بين عمودين.

1



•

الخط الذي تتركه السلحفاة
خلفها وهي تسير.

1

• القلم

أداة القلم لأسفل.

2

الوحدة الثالثة الدرس الثالث : رسم الأشكال من صفحة 68 إلى 74

السؤال الثامن: اختر الإجابة الصحيحة

1- جميع الخطوات وضعت بالترتيب الصحيح.

1

الأشكال

الرسم

التسلسل

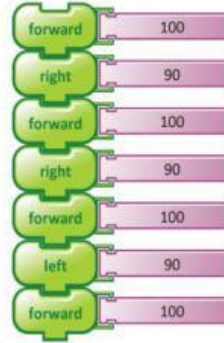
السؤال التاسع: صل بين عمودين.

2



شكل له أربع أضلاع لها نفس القياس.

1



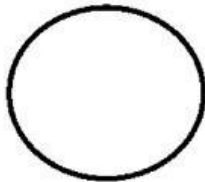
الخطأ في برنامج رسم المربع التالي.

2



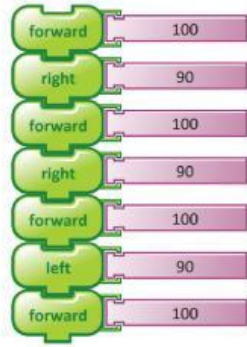
السؤال العاشر: أجب عن الأسئلة بوضع علامة صح (✓) أسفل الصورة.

3

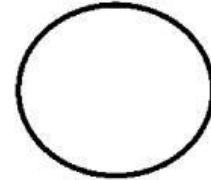
1- شكل له أربعة أضلاع لها نفس القياس.



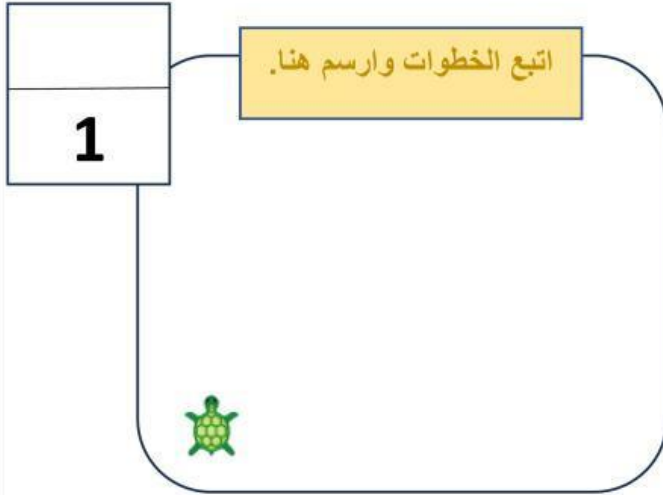
2- الخطأ في خطوات رسم المربع التالي .



3- الشكل الذي سيتم رسمه من الأوامر التالية.



السؤال الحادي عشر: تتبع خطوات الخوارزمية التالية ثم ارسم الشكل الناتج.



- ↑ تقدم للأمام 50 خطوة.
- ↻ استدر لليمين 90.
- ↑ تقدم للأمام 100 خطوة.
- ↻ استدر لليمين 90.
- ↑ تقدم للأمام 50 خطوة.
- ↻ استدر لليمين 90.
- ↑ تقدم للأمام 100 خطوة.



السؤال الثاني عشر: اكتشف الخطأ في الخوارزمية التالية وقم بتصحيحه.

2

- forward 100
- right 90
- forward 100
- right 90
- forward 100
- left 90
- forward 100

الخطأ:

التصحيح:

