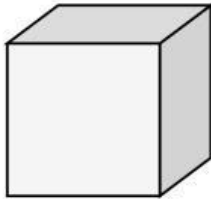
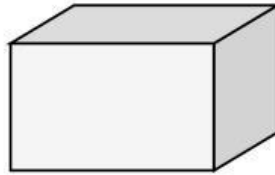


Petualangan Polyhedron

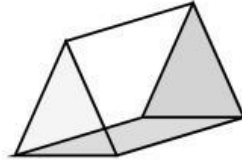
Nama: _____ Kelas: _____



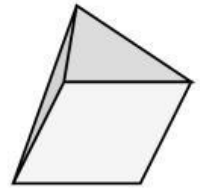
Kubus



Balok



Prisma



Limas

A. Isilah titik-titik berikut!

1. Kubus memiliki _____ sisi.
2. Balok memiliki _____ titik sudut.
3. Limas segiempat memiliki _____ rusuk.

B. Pilihan Ganda

1. Bangun ruang yang semua sisinya berbentuk persegi adalah
a. Balok b. Kubus c. Prisma
2. Prisma segitiga memiliki alas berbentuk
a. Segitiga b. Persegi c. Lingkaran

C. Cocokkan!

Bangun Ruang	Ciri-ciri
Kubus	Memiliki 6 sisi yang sama besar
Balok	Memiliki sisi berbentuk persegi panjang
Prisma Segitiga	Memiliki 2 alas berbentuk segitiga
Limas Segiempat	Memiliki 1 alas berbentuk persegi

D. Tantangan!

Tuliskan 3 benda di rumahmu yang berbentuk bangun ruang sisi datar.

1. _____
2. _____
3. _____