





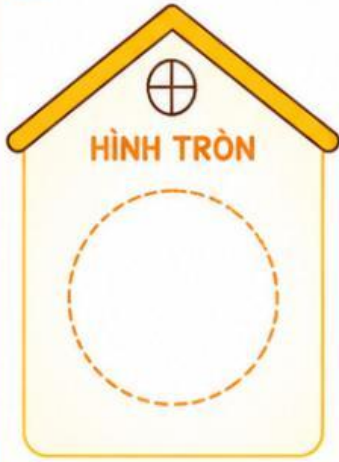
PHIẾU BÀI TẬP

BÉ PHÂN LOẠI HÌNH DẠNG

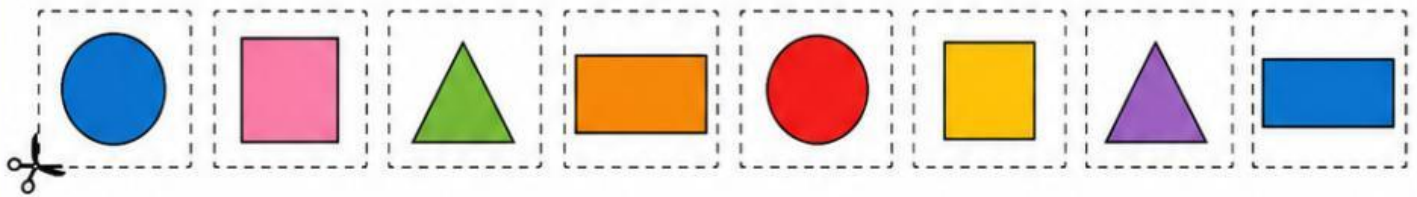


Họ và tên: Lớp: Ngày:/...../.....

1 Nối hình với đúng ngôi nhà.



2 Cắt - Dán: Cắt các hình bên dưới và dán vào đúng nhóm hình ở phía trên.



3 Khoanh tròn đáp án đúng.

1. Hình nào có 3 cạnh?



Tròn



Vuông



Tam giác

2. Hình nào không có góc?



Tròn



Chữ nhật



Tam giác



Nhận xét của cô: