



Lembar Kerja Peserta Didik

TATA SURYA

Pasangkan nama dan gambar planet berikut ini!



Merkurius



Venus



Bumi



Mars



Jupiter



Saturnus



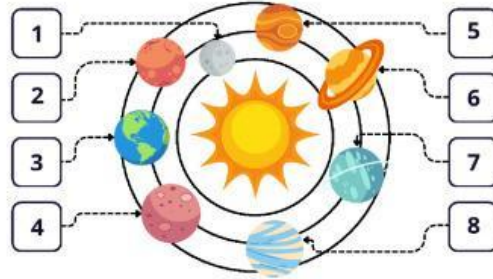
Uranus





Neptunus


SISTEM TATA SURYA

Lihat model tata surya ini, kemudian tulis nama planet menurut urutan nomornya!





 Nama Planet: _____


 Nama Planet: _____

 Nama Planet: _____

 Nama Planet: _____

 Nama Planet: _____

 Nama Planet: _____

 Nama Planet: _____

 Nama Planet: _____

Sebutkan nama planet sesuai penjelasan dan temukan nama planet di dalam kotak.



- 1 Planet paling besar
.....
- 2 Planet paling panas
.....
- 3 Planet paling merah
.....

- 4 Planet paling dingin
.....
- 5 Planet paling kecil
.....
- 6 Planet dengan satelit bulan
.....

MENGENAL TATA SURYA

Cermati penjelasan tentang planet di bawah ini!

Beri tanda centang pada tulisan benar jika memang sesuai dan centang pada tulisan salah jika tidak sesuai.



Mars merupakan planet terpanas

 BENAR SALAH

Merkurius adalah planet yang paling dekat matahari

 BENAR SALAH

Bumi adalah planet yang paling hijau

 BENAR SALAH

Neptunus adalah planet paling kecil

 BENAR SALAH

Yupiter adalah planet paling besar

 BENAR SALAH

MENGENAL SISTEM TATA SURYA

Tulis nama-nama planet dibawah ini dengan tepat pada kotak yang sudah disediakan!

The worksheet contains 10 planets arranged in three rows, each with an empty box below it for labeling:

- Row 1: A red planet with spots, a blue and green Earth, and a yellow and orange planet.
- Row 2: A red planet, a yellow and orange planet with horizontal stripes, and a yellow planet with a ring.
- Row 3: A blue planet with a ring, an orange planet with horizontal stripes, and a blue planet.