

LKPD

MATEMATIKA

UNTUK SISWA SD KELAS III

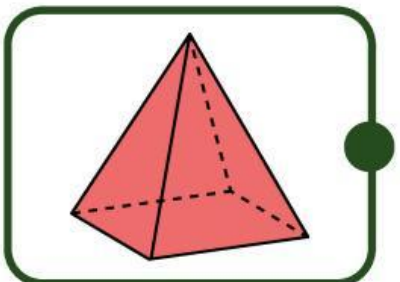
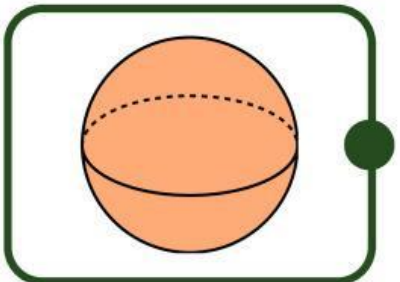
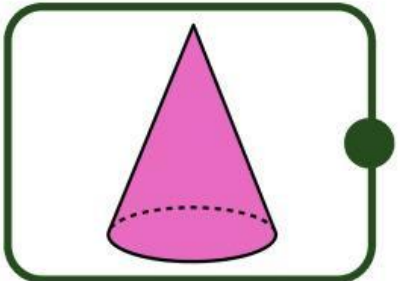
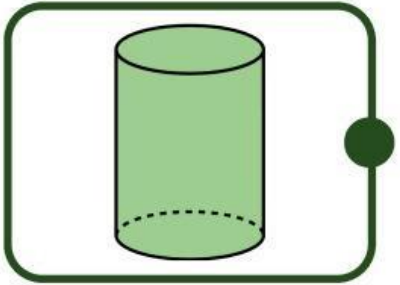
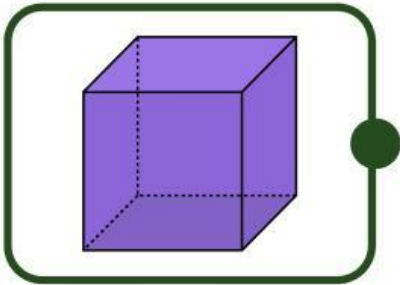


Nama : _____

Kelas : _____

Mengenali Bangun Ruang

Hubungkan gambar dengan nama yang sesuai!



TABUNG

BOLA

KUBUS

LIMAS

KERUCUT

Nama:

Tanggal:

TEKA-TEKI CARI KATA

Temukan kosa kata tersembunyi yang berkaitan dengan bangun ruang



Y	L	B	O	L	A	A	S	I	S	B	I	O	K
U	Y	M	T	Z	N	V	K	X	P	S	U	Q	Z
I	Q	E	E	N	H	E	S	O	G	D	H	T	U
S	C	K	E	X	S	M	T	Q	J	R	K	G	D
A	D	D	E	U	W	R	I	I	H	E	N	Y	F
K	H	A	H	R	T	I	U	U	K	U	F	L	Y
I	I	S	H	O	U	O	K	V	B	E	A	M	T
N	X	O	T	A	A	C	C	A	U	M	T	U	N
P	R	I	S	M	A	X	T	K	I	J	Y	I	S
M	Q	I	H	B	S	I	K	N	H	X	A	F	U
O	W	A	G	L	G	C	G	Z	X	Y	T	Y	L
K	R	L	A	I	N	W	O	E	H	C	P	H	P
G	G	K	D	W	U	G	S	P	K	U	B	U	S
L	I	M	A	S	D	M	O	K	C	X	Q	F	I



TABUNG

KUBUS

BOLA

KERUCUT


LIMAS

PRISMA

Nama:

Absen:

**BERI TANDA CENTANG PADA GAMBAR
YANG MERUPAKAN BANGUN RUANG**



Nama: _____

Kelas: _____

Memahami Bangun Datar

Tuliskan nama bangun datar pada gambar di bawah ini!



Nama :

Nama :

Nama :

Nama:

Absen:

**BERI TANDA CENTANG PADA GAMBAR
YANG BUKAN MERUPAKAN BANGUN RUANG**

