



**LKPD**

# MENGIDENTIFIKASI ENERGI PANAS DAN CAHAYA



PETUNJUK :

Hubungkan sudut dengan kategori yang tepat:



MENGHASILKAN  
PANAS



MENGHASILKAN  
CAHAYA



MENGHASILKAN  
PANAS



MENGHASILKAN  
PANAS



MENGHASILKAN  
CAHAYA

# MENCOCOKKAN GAMBAR



•



•



•



•



•



•



•







•

# MARI MENCARI KATA YANG SESUAI

P A N A S F G  
E A I L K A M  
C A H A Y A C  
P A N A S N L  
J B C D F A C  
K Z L A C A Y

# Lembar Kerja MENGHITUNG MATAHARI

Hitung jumlah Matahari, lalu hubungkan garis yang sesuai dengan jumlah angka yang ada pada kelinci!



# Energi Panas

Berilah tanda (✓) pada gambar yang menunjukkan perilaku mematuhi aturan. Beri tanda (✗) pada gambar yang menunjukkan perilaku tidak mematuhi aturan.

