

Lembar Kerja Peserta Didik

# IPA

Lingkungan Biotik dan Abiotik

Nama: \_\_\_\_\_

Kelas: \_\_\_\_\_

Absen No: \_\_\_\_\_





Nama : \_\_\_\_\_ Absen No: \_\_\_\_\_ Kelas : \_\_\_\_\_

Hubungkan gambar dengan jenis komponen yang sesuai.



Komponen Abiotik



Komponen Biotik



Nama : \_\_\_\_\_ Absen No: \_\_\_\_\_ Kelas : \_\_\_\_\_

## Teka Teki Komponen Biotik dan Abiotik

Temukan 8 komponen biotik dan abiotik pada kotak berikut. Lalu, garis komponen biotik dan abiotik yang kalian temukan pada tabel berikut dan lengkapi kolom yang tersedia.




n	v	k	h	e	w	a	n	r	m	i	j
s	c	e	f	x	o	x	d	t	n	v	x
r	i	t	a	n	a	h	b	s	g	h	a
b	e	c	e	m	i	u	b	t	u	o	i
a	i	u	j	u	m	z	h	z	o	a	r
k	z	l	o	d	l	o	g	s	i	p	j
t	s	r	f	a	x	j	a	m	u	r	y
e	x	a	s	r	p	i	r	z	p	h	n
r	n	f	e	a	o	x	u	s	g	x	u
i	v	a	n	g	i	n	o	e	s	z	j




Nama : \_\_\_\_\_

Absen No: \_\_\_\_\_

Kelas : \_\_\_\_\_

## MENGENAL KOMPONEN BIOTIK DAN ABIOTIK

Kelompokkan benda-benda berikut ini sesuai dengan komponennya



**Komponen  
Biotik**

**Komponen  
Abiotik**

# MELINGKARI JENIS KOMPONEN

Lingkari gambar di bawah ini sesuai dengan jenis komponennya.

Nama Siswa: \_\_\_\_\_ Kelas: \_\_\_\_\_ Absen No: \_\_\_\_\_

## Biotik



## Abiotik



Penilaian








\_\_\_\_\_



# Komponen Ekosistem

Berikan tanda (√) pada kolom Biotik atau Abiotik di bawah.

Nama: \_\_\_\_\_ Kelas: \_\_\_\_\_ Absen No: \_\_\_\_\_

Gambar	Biotik	Abiotik
	✓	
		
		
		
		
		
		

Penilaian

\_\_\_\_\_

