

Lembar Kerja Peserta Didik

LKPD

Sistem Tata Surya

Nama : _____

Kelas : _____



Isilah kotak kosong di bawah ini dengan
nama planet yang benar!





Cocokkan gambar planet di bawah ini



Bumi



Mars











Saturnus



Neptunus

Tuliskan karakteristik planet di bawah ini
dengan benar!

No.	Nama Planet	Karakteristik
1.	 _____	Warna : Jumlah Satelit : Nama Satelit : Kala Rotasi : Kala Revolusi :
2.	 _____	Warna : Jumlah Satelit : Nama Satelit : Kala Rotasi : Kala Revolusi :
3.	 _____	Warna : Jumlah Satelit : Nama Satelit : Kala Rotasi : Kala Revolusi :
4.	 _____	Warna : Jumlah Satelit : Nama Satelit : Kala Rotasi : Kala Revolusi :

No.	Nama Planet	Karakteristik
5.	 _____	Warna : Jumlah Satelit : Nama Satelit : Kala Rotasi : Kala Revolusi :
6.	 _____	Warna : Jumlah Satelit : Nama Satelit : Kala Rotasi : Kala Revolusi :
7.	 _____	Warna : Jumlah Satelit : Nama Satelit : Kala Rotasi : Kala Revolusi :
8.	 _____	Warna : Jumlah Satelit : Nama Satelit : Kala Rotasi : Kala Revolusi :