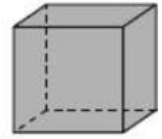
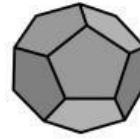
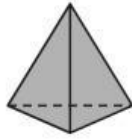


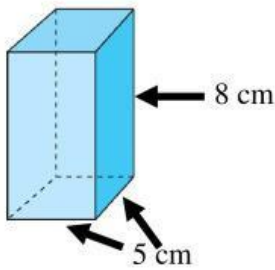
MATEMÁTICAS TEMA 11

1.- Escribe el nombre de cada poliedro regular, cuántas caras tiene y qué polígono son.

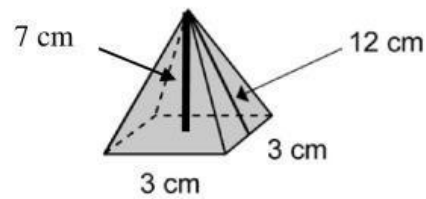


Nombre					
Nº de caras					
Polígono					

2.- Calcula el área y el volumen de estos cuerpos geométricos.

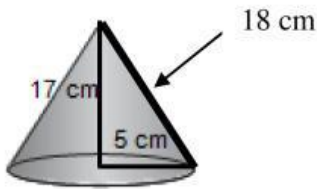


Área cm^2
 Volumen cm^3

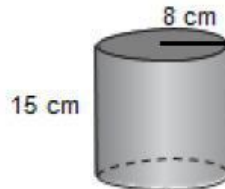


Área cm^2
 Volumen cm^3

3.- Calcula el área y el volumen de estos cuerpos geométricos.



Área cm^2
 Volumen cm^3



Área cm^2
 Volumen cm^3

4.- Halla el área y el volumen de un balón de baloncesto de 11 cm de radio.



Área cm^2
 Volumen cm^3

Área cm^2
 Volumen cm^3