

# LKPD

## Matematika

Penjumlahan dan Pengurangan

$$5 + 5 = ?$$
$$7 - 2 = ?$$



Nama:

Kelas:

# Belajar Menghitung


Mari kita hitung jumlah hewan-hewan tersebut dan mencatat jumlah yang tepat.




=




=



=



=



=

# Belajar Menghitung

Hitung jumlah buah sesuai gambar. Gunakan operasi tambah (+) dan kurang (-), lalu tuliskan jawabannya di kotak!

$$\begin{array}{|c|} \hline \text{1 Pineapple} \\ \hline \end{array} + \begin{array}{|c|} \hline \text{2 Mangoes} \\ \hline \end{array} - \begin{array}{|c|} \hline \text{2 Strawberries} \\ \hline \end{array} = \square$$

$$\begin{array}{|c|} \hline \text{4 Bananas} \\ \hline \end{array} - \begin{array}{|c|} \hline \text{2 Lemons} \\ \hline \end{array} + \begin{array}{|c|} \hline \text{4 Apples} \\ \hline \end{array} = \square$$

$$\begin{array}{|c|} \hline \text{2 Strawberries} \\ \hline \end{array} + \begin{array}{|c|} \hline \text{6 Pineapples} \\ \hline \end{array} - \begin{array}{|c|} \hline \text{2 Mangoes} \\ \hline \end{array} = \square$$

$$\begin{array}{|c|} \hline \text{5 Apples} \\ \hline \end{array} - \begin{array}{|c|} \hline \text{1 Lemon} \\ \hline \end{array} + \begin{array}{|c|} \hline \text{4 Bananas} \\ \hline \end{array} = \square$$

$$\begin{array}{|c|} \hline \text{4 Pineapples} \\ \hline \end{array} + \begin{array}{|c|} \hline \text{4 Bananas} \\ \hline \end{array} - \begin{array}{|c|} \hline \text{4 Apples} \\ \hline \end{array} = \square$$

# Ayo Berlatih Hitung Cepat!

Hitung hasil penjumlahan dan pengurangan di bawah ini.  
Tulis jawabannya di kotak!

$2 + 4 = \square$

$3 + 5 = \square$

$2 + 8 = \square$

$10 + 5 = \square$

$8 + 3 = \square$

$9 + 5 = \square$

# Belajar Penjumlahan dan Pengurangan

Mari kita hitung jumlah benda pada soal berikut dan tuliskan jawabannya!

1. Siti punya 3 pensil. Ia membeli 2 pensil lagi.  
Berapa jumlah pensil Siti sekarang?

---

2. Riko membawa 5 balon ke taman. Tiga balon terbang.  
Berapa balon yang tersisa?

---

3. Lani memiliki 4 kue. Ibunya memberinya 3 kue lagi.  
Berapa jumlah kue Lani sekarang?

---

4. Di meja ada 6 jeruk. Adik memakan 2 jeruk.  
Berapa jeruk yang tersisa di meja?

---

5. Budi memetik 3 bunga. Kemudian ia memetik 4 bunga lagi.  
Berapa jumlah bunga yang dipetik Budi?

---

6. Rani membawa 7 krayon. Dua krayon dipinjam teman.  
Berapa krayon yang masih dibawa Rani?

---

# SOAL CERITA BERGAMBAR

NAMA :



KELAS :




PETUNJUK :

Baca cerita bergambar lalu hitung dan tulis jawabannya.

1

Dito punya   
dan adiknya punya   
Berapa semua permen?

2

Ada   
di kandang pertama, dan   
di kandang kedua. Ada berapa  
semua ayam?

3

Rani membeli   
lalu diberi 2 lagi oleh temannya.  
Berapa total hadiah?

4

Di taman ada   
lalu datang 1 lagi. Ada  
berapa sekarang?