

LEMBAR KERJA PESERTA DIDIK

LKPD

MATEMATIKA



NAMA :

KELAS :

MENGURAIKAN ANGKA!



NAMA :

KELAS :



PETUNJUK :

Gambarkan garis dari setiap angka ke kelompok objek yang sesuai dengannya.

$$68 = 60 + 8$$

$$21 = \dots + \dots$$

$$37 = \dots + \dots$$






$$96 = \dots + \dots$$

Nama:

Kelas:

Cocokkan Jumlah Jarinya!

Hitung jumlah jari dan hubungkan dengan angka yang tepat!



Mari Menjumlah Kendaraan di Jalan

NAMA : _____

KELAS : _____



PETUNJUK :

Hitung semua kendaraan dalam gambar. Tulis jawabannya di kotak.



+



=



+



=



+



=



+



=

MEMBACA ANGKA DAN MENULIS

Nama: _____

Kelas: _____

Nilai :



PETUNJUK

Bacalah angka dalam bahasa Inggris di bawah ini lalu tuliskan kembali dengan benar!

1	=	1	1	1	=	ONE
2	=	2	2	2	=	TWO
3	=	3	3	3	=	THREE
4	=	4	4	4	=	FOUR
5	=	5	5	5	=	FIVE