

# LKPD

## Ilmu Pengetahuan Alam

### Siklus pada Makhluk Hidup

Nama: \_\_\_\_\_

Kelas: \_\_\_\_\_



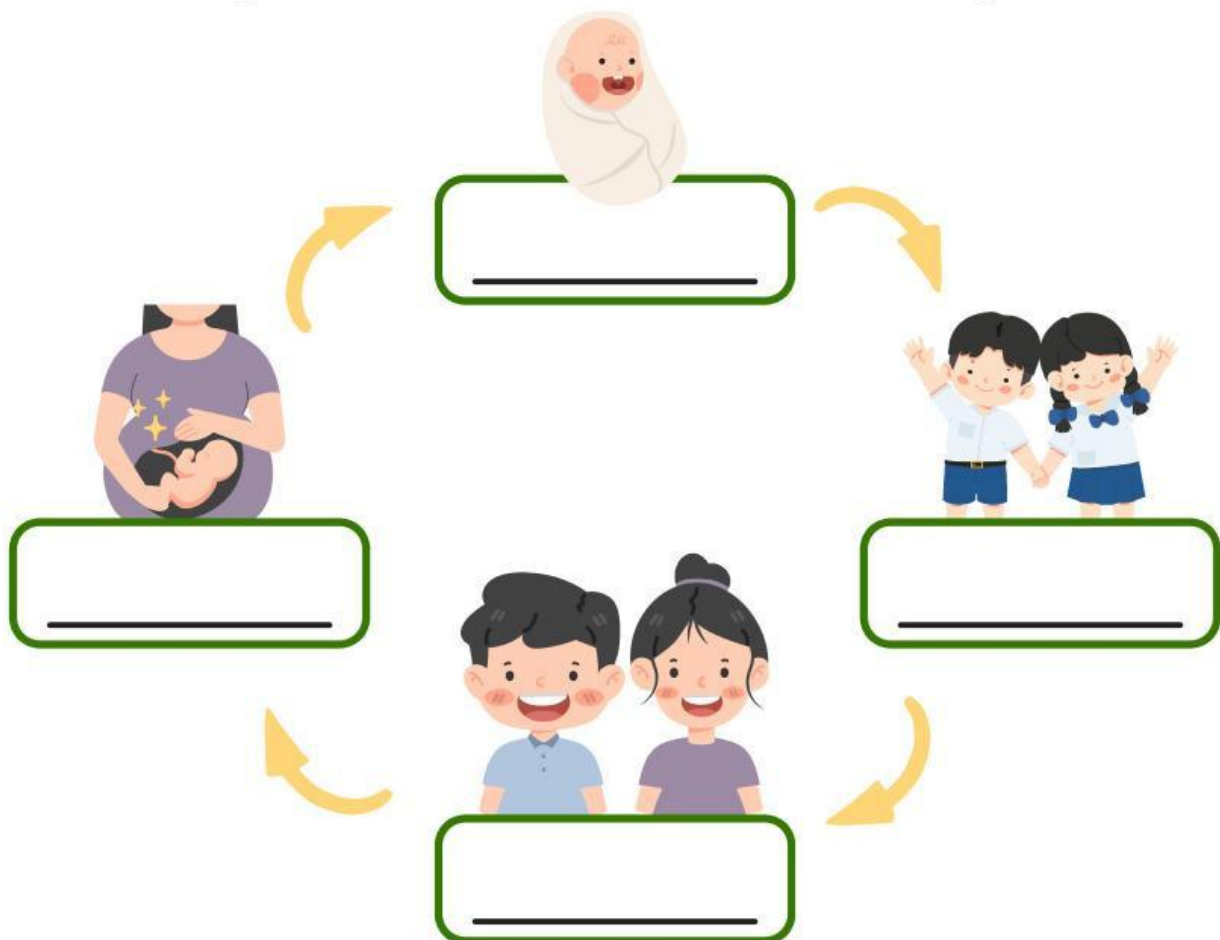
# Siklus Hidup

Makhluk hidup butuh berkembang biak untuk mempertahankan keturunan.

- Perhatikan gambar di bawah ini.
- Isilah titik-titik sesuai gambar.



## Siklus Hidup Manusia


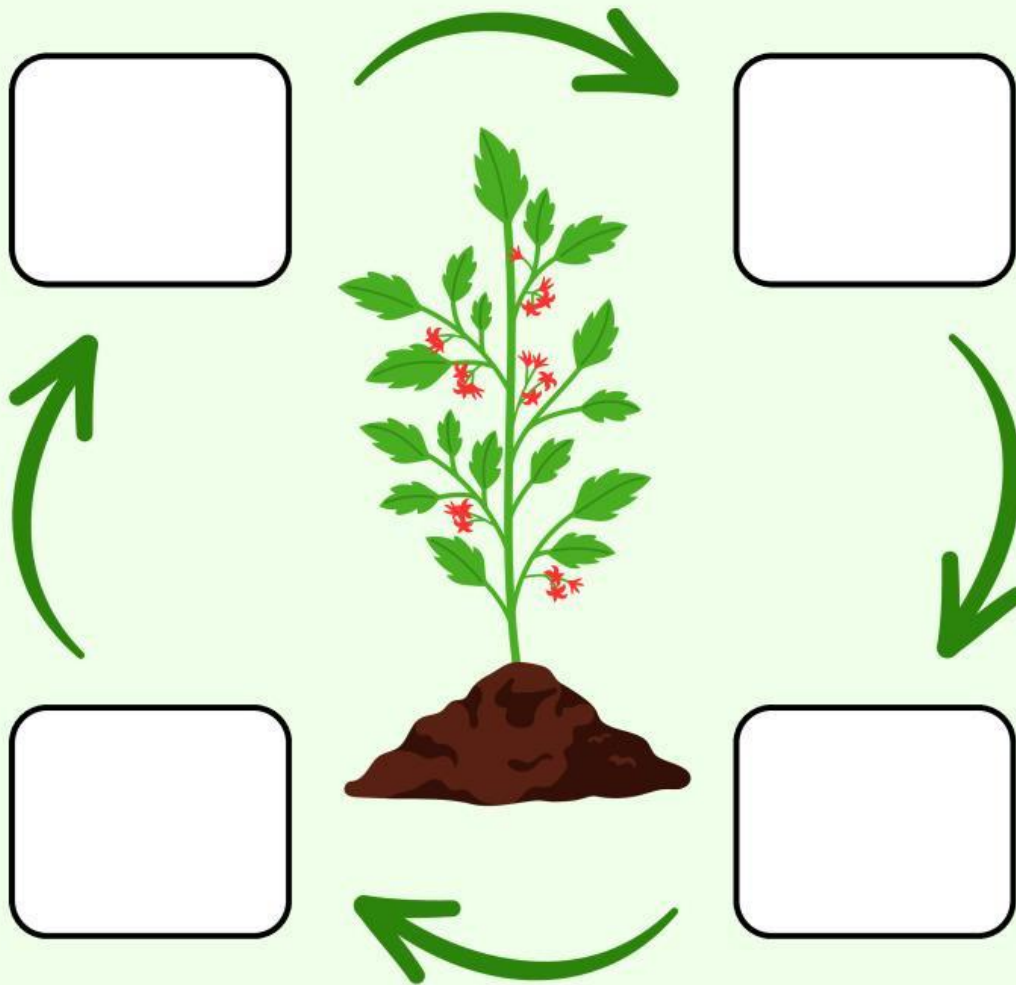


Gambar mana yang mirip dengan kondisi kalian saat ini?

\_\_\_\_\_

# SIKLUS TUMBUHAN

Gunting dan tempel tahapan siklus hidup tumbuhan dengan tepat!



# Siklus Hidup Hewan

Urutkan gambar sesuai tahap siklus hidup hewan ini.

Nama: \_\_\_\_\_ Kelas: \_\_\_\_\_ Absen No: \_\_\_\_\_

## Siklus Hidup Kupu - kupu



## Siklus Hidup Katak



## Siklus Hidup Ayam



## Siklus Hidup Nyamuk



Penilaian



Masukan Guru

\_\_\_\_\_

Tanda Tangan

\_\_\_\_\_

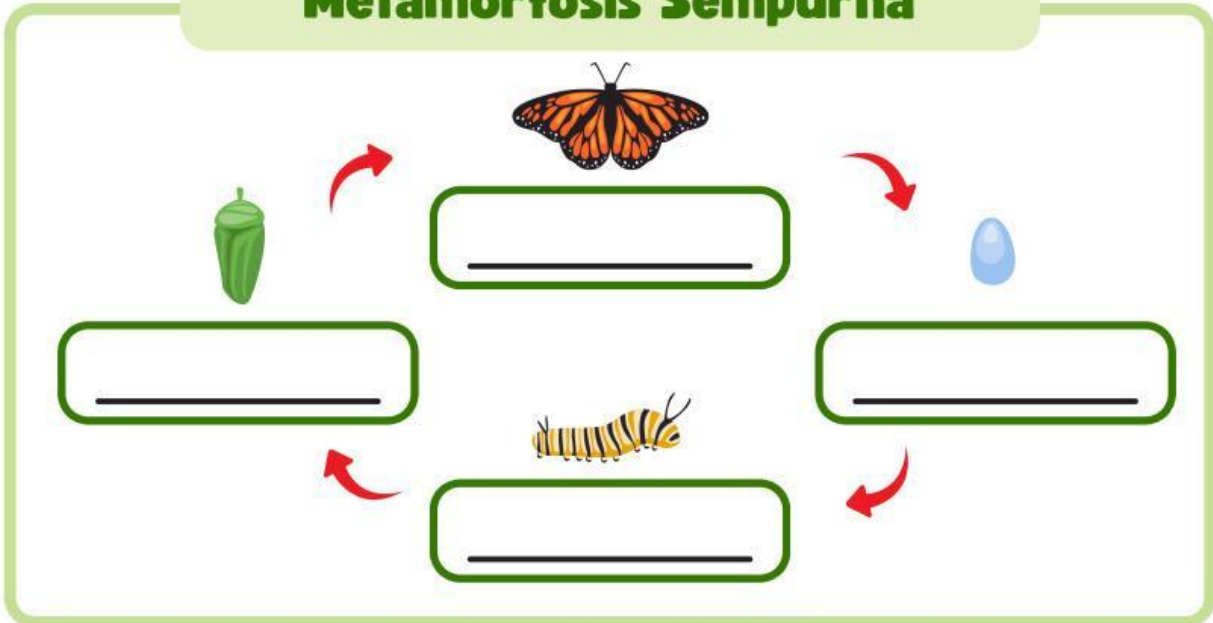
# Metamorfosis

Perubahan bentuk pada siklus hidup makhluk hidup.



- Perhatikan gambar di bawah ini.
- Isilah titik-titik sesuai gambar.

## Metamorfosis Sempurna



## Metamorfosis Tidak Sempurna

