

Színezz ki annyi virágot, ahány megoldásod hibátlan!



1. Folytasd!

8, 16, 24, , , , , ,



2. Számolj!

a) $7 \cdot 2 =$

b) $28 : 4 =$

$5 \cdot 8 =$

$32 : 4 =$

$9 \cdot 10 =$

$60 : 10 =$

$7 \cdot 4 =$

$56 : 8 =$

c) $3 \cdot 4 =$

d) $\cdot 2 = 18$

$4 \cdot$ $= 24$

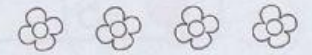
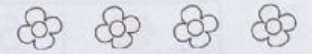

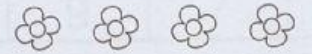
$: 4 = 5$

$9 \cdot 8 =$

$72 :$ $= 9$

$5 \cdot$ $= 25$

$12 :$ $= 6$



3. Mely számok teszik igazgá az állításokat?

a) $8 \cdot 7 > \odot > 9 \cdot 6$ $\odot =$




b) $40 : 8 < \triangle < 21 : 3$ $\triangle =$



4. Nagymama éléskamrájában 9 üveg szilvalekvár és 3-szor annyi baracklekvár van. Hány üveg baracklekvár található a polcon?

a) Összesen hány üveg lekvárt tett el a nagymama?



Összesen ___ pontot értem el a 35-ből.

35–32 pont – bagoly csoport,

31–20.pont – mókus csoport; 19 pont alatt – pillangó csoport

