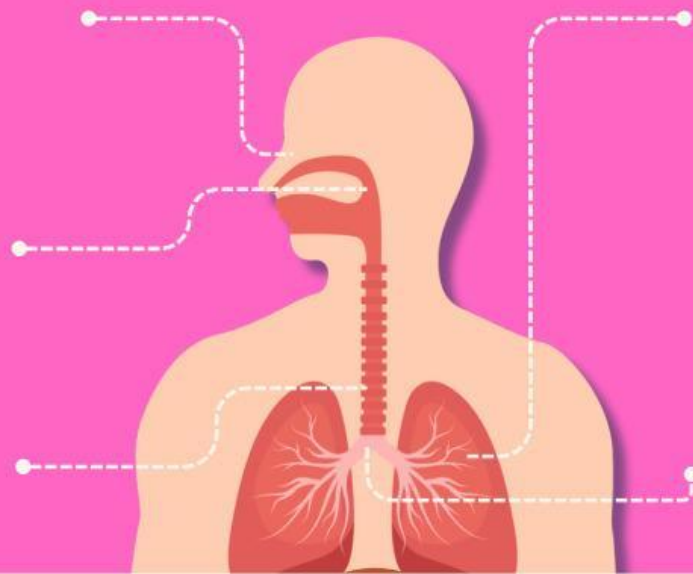




LKM

lembar kerja murid

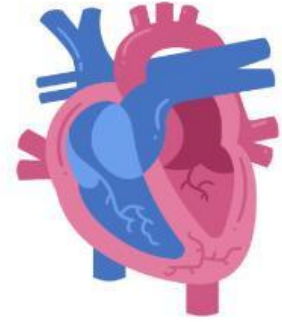


NAMA :

KELAS




MENCOCOKKAN SISTEM PERNAPASAN



Hubungkan organ pernafasan sebelah kiri fungsi yang tepat di sebelah kanan dengan menarik garis.

Nama:

Kelas:



berfungsi
menyalurkan udara
dari trakea ke
bronkiolus



otot utama dalam
pernapasan. Saat
kita menarik napas



pintu masuk utama
udara ke dalam
tubuh



tabung yang
menghubungkan
laring dengan
bronkus



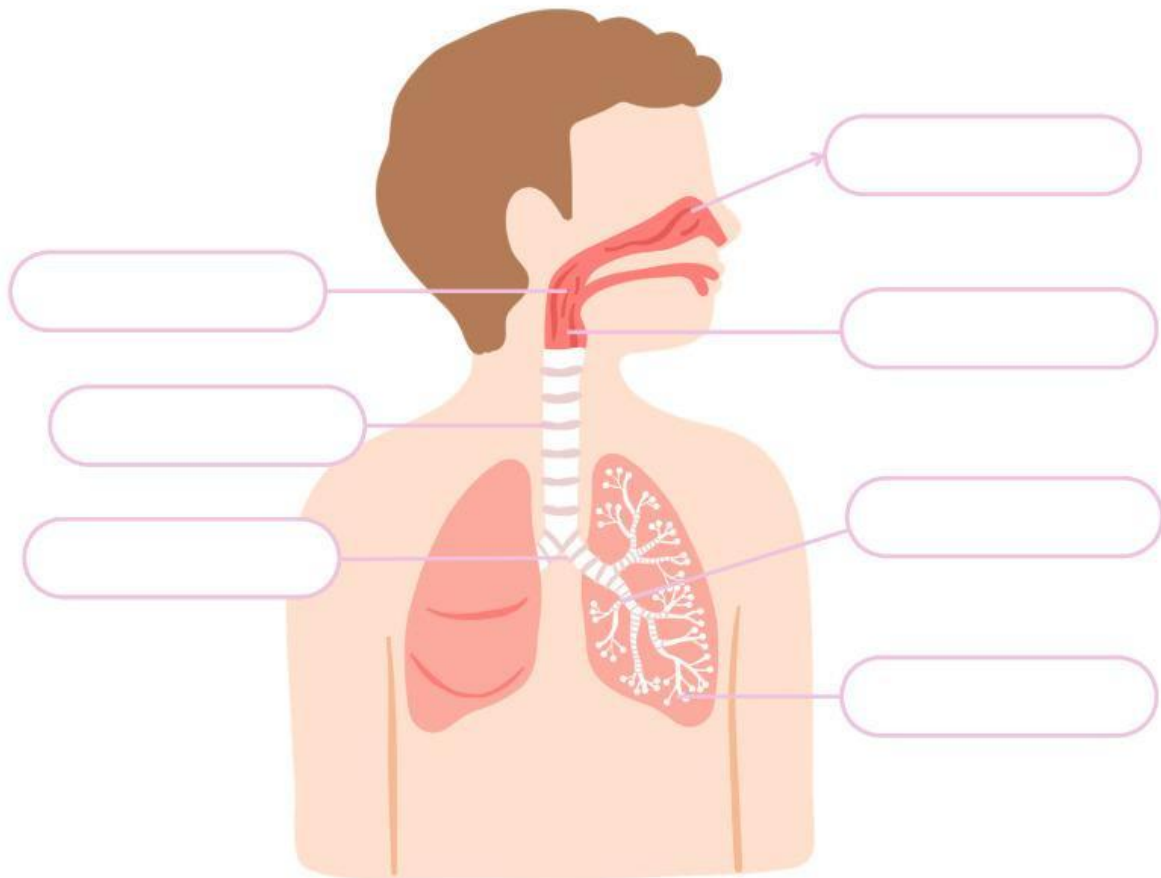
sebagai tempat
pertukaran gas
antara udara dan
darah

Nama: _____

Kelas _____

ORGAN PERNAPASAN MANUSIA

Tuliskan bagian-bagian organ pernapasan sesuai gambar di bawah ini!



Gunakan nama organ pernapasan berikut untuk melengkapi gambar di atas

Laring

Trakhea

Brokhiolus

Hidung

Bronkhus

Alveolus

Faring

Paru-paru

Jawablah pertanyaan di bawah dengan benar!

1. Tuliskan apa saja yang akan terjadi ketika kita tidak menjaga organ paru-paru kita?

.....

2. Penyakit apa saja yang ditimbulkan jika tidak menjaga sistem pernapasan kita?

.....

3. Bagaimana cara yang dapat kita lakukan untuk menjaga kesehatan tubuh terutama paru-paru kita?

.....