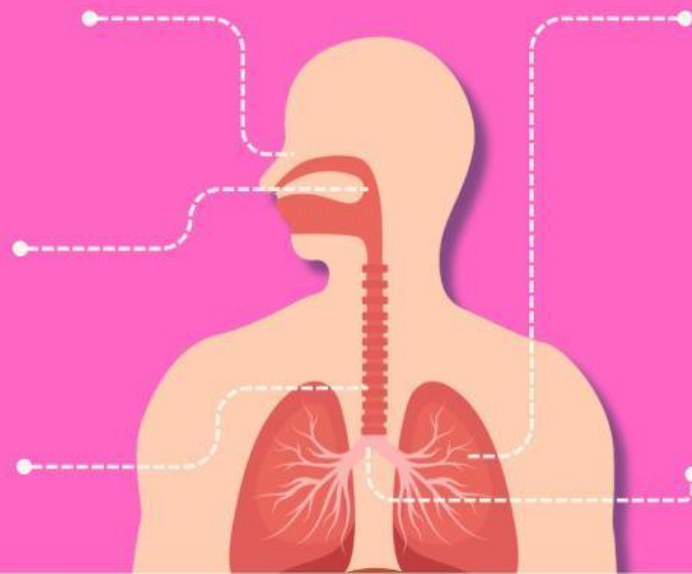





LKM

lembar kerja murid



NAMA KELOMPOK



Nama kelompok

Kelas : _____



Sistem Pernapasan Manusia

Berilah tanda (✓) pada kolom benar atau salah, terkait sistem pernapasan manusia di bawah ini.

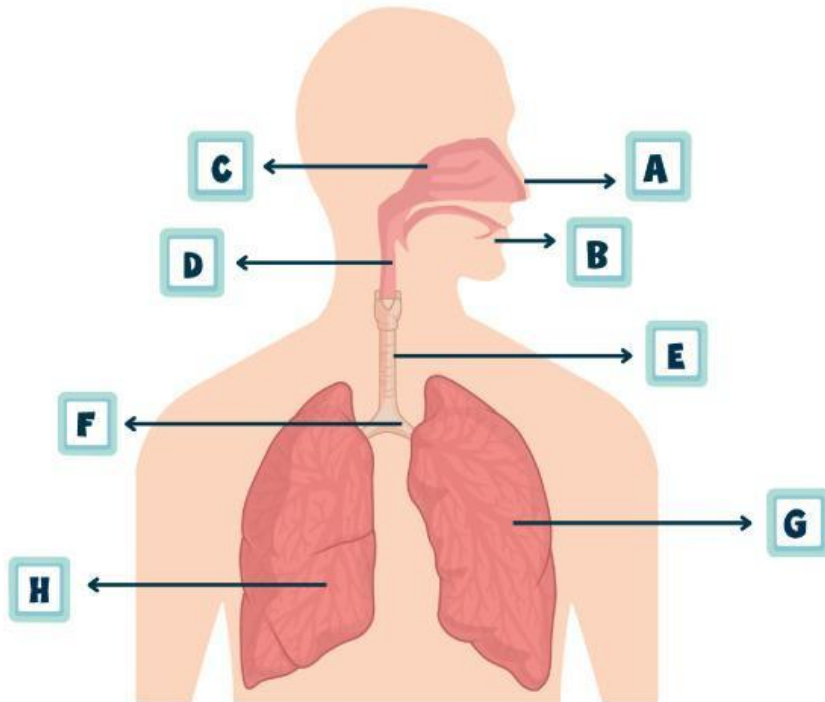
Pernyataan	Benar	Salah
Manusia bernapas untuk mendapatkan oksigen.	<input type="checkbox"/>	<input type="checkbox"/>
Paru-paru adalah organ utama dalam sistem pernapasan manusia.	<input type="checkbox"/>	<input type="checkbox"/>
Udara yang dihirup manusia mengandung oksigen dan nitrogen.	<input type="checkbox"/>	<input type="checkbox"/>
Hidung membantu pertukaran oksigen dan karbon dioksida.	<input type="checkbox"/>	<input type="checkbox"/>
Hidung berfungsi menyaring udara yang masuk ke tubuh.	<input type="checkbox"/>	<input type="checkbox"/>
Tenggorokan merupakan saluran udara menuju paru-paru.	<input type="checkbox"/>	<input type="checkbox"/>
Karbon dioksida dikeluarkan melalui pori-pori kulit manusia.	<input type="checkbox"/>	<input type="checkbox"/>
Terjadi pertukaran oksigen dan karbon dioksida di hidung.	<input type="checkbox"/>	<input type="checkbox"/>

Nama kelompok _____

Kelas: _____

JALUR PERNAPASAN MANUSIA

Urutkan & jelaskan bagian pernapasan sesuai jalur masuknya udara.



A

B

C

D

E

F

G

H

Masukan guru

Penilaian:

