



# DIỆN TÍCH HÌNH CHỮ NHẬT, DIỆN TÍCH HÌNH VUÔNG

## 1 Khoanh vào chữ đặt trước câu trả lời đúng.

a) Mảnh vườn nào có diện tích lớn hơn?



Vườn A



Vườn B

- A Vườn A
- B Vườn B
- C Hai vườn bằng nhau

b) Tấm thảm nào có diện tích lớn hơn?




Thảm A



Thảm B

- A Thảm A
- B Thảm B
- C Hai thảm bằng nhau


## 2 Viết số thích hợp vào ô trống.



Chiều dài: ..... m

Chiều rộng: ..... m

Diện tích: ..... m<sup>2</sup>



Chiều dài: ..... m

Chiều rộng: ..... m

Diện tích: ..... m<sup>2</sup>

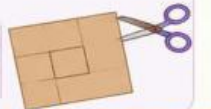
## 3 Hoàn thành bảng sau (dựa vào kích thước cho trước).

Hình	Chiều dài (m)	Chiều rộng (m)	Diện tích (m <sup>2</sup> )
	28	15	.....
	12	.....	.....
	.....	20	.....

## 4 Thử thách nhỏ

Một miếng bìa hình chữ nhật có chiều dài 9 cm, chiều rộng 6 cm.  
Bạn Nam cắt từ miếng bìa đó thành các hình vuông có cạnh 2 cm.  
Hỏi cắt được tất cả bao nhiêu hình vuông?

--	--	--	--	--	--	--	--	--	--



Chăm chỉ hôm nay - Tỏa sáng ngày mai! ❤️