



PHIẾU BÀI TẬP

HÌNH CHỮ NHẬT - HÌNH VUÔNG



Họ và tên: Lớp: Ngày:

PHẦN 1. TRẮC NGHIỆM

Khoanh vào chữ cái trước đáp án đúng.


1 Hình chữ nhật có:

- A. 3 góc vuông
- B. 4 góc vuông
- C. 2 góc vuông
- D. Không có góc vuông



2 Hình vuông có:

- A. 2 cạnh bằng nhau
- B. 3 cạnh bằng nhau
- C. 4 cạnh bằng nhau
- D. Không có cạnh nào bằng nhau



3 Trong hình chữ nhật ABCD:



- A. $AB = BC$
- B. $AB = CD$
- C. AB nhỏ hơn CD
- D. $BC = CD$

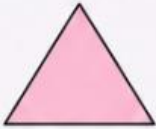


4 Độ dài cạnh ngắn của hình chữ nhật gọi là:

- A. Chiều cao
- B. Chiều dài
- C. Chiều rộng
- D. Đường chéo




5 Hình nào dưới đây có 4 cạnh bằng nhau và 4 góc vuông?




A. Hình tam giác



B. Hình chữ nhật



C. Hình tròn



D. Hình vuông



PHẦN 2. TỰ LUẬN NGẮN

1 Viết 2 đặc điểm của hình chữ nhật.

1.
2.



2 Viết 2 đặc điểm của hình vuông.

1.
2.

