



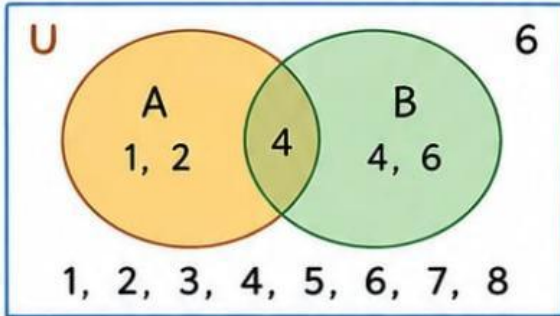
# LKM

## Menggambar Diagram Venn

Metode BBL: Pra-Pemaparan – Akuisisi – Elaborasi – Formasi Memori



### 1. Pra-Pemaparan **Pesan Utama:** Apa itu diagram Venn?



Menurut kalian, di mana kita bisa menemukan diagram seperti ini?



### 2. Akuisisi **Pengetahuan Baru:** Mengenal diagram Venn

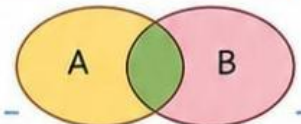
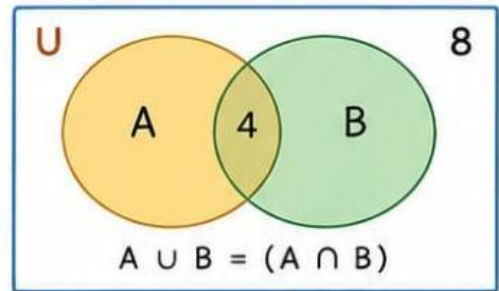
1. Gambar Venn untuk melode diagram Venn:

1. Aturan penyajian: Setiap anggota ditulis pada daerah yang sesuai.

2. Cara menentukan daerah:


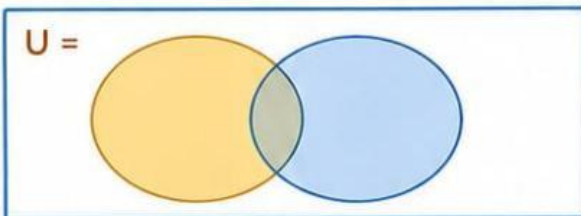
- $A \cap B$  : anggota yang ada pada A dan B
- A saja : anggota yang hanya ada pada A
- B saja : anggota yang hanya ada pada B
- U (semesta) : semua anggota.

3. Manakah area yang termasuk pada  $A \cup B$  ?



### 3. Elaborasi **Praktik:** Gambar diagram berdasarkan soal berikut:

Misalkan Himpunan A = {apel, jeruk, mangga},  
dan Himpunan B = {apel, pisang, semangka}



Jawaban:



### 4. Formasi Memori **Pengulangan:** Sebutkan cara menggambar diagram Venn.

1. \_\_\_\_\_
2. \_\_\_\_\_



### 5. Integrasi Fungsional **Penerapan:** Contoh Venn dalam kehidupan sehari-hari

Tuliskan contoh diagram Venn dalam kehidupan sehari-hari!

