

Lembar Kerja Peserta Didik

1

2

# LKPD Matematika

$\pi$  Penjumlahan dan Pengurangan  $+$



Nama : \_\_\_\_\_

Kelas : \_\_\_\_\_

# PENJUMLAHAN

Ayo menghitung buah – buahan berikut !

 $+$  $=$  .....

 $+$  $=$  .....

 $+$  $=$  .....

 $+$  $=$  .....

 $+$  $=$  .....

 $+$  $=$  .....

Kelas :

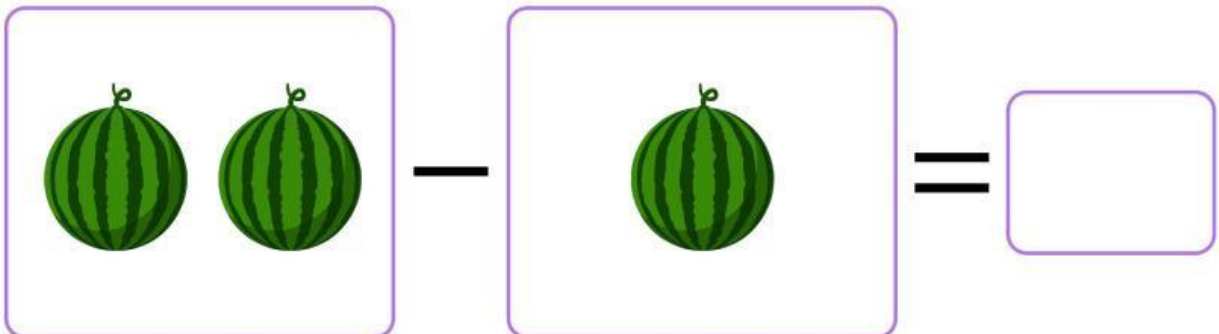

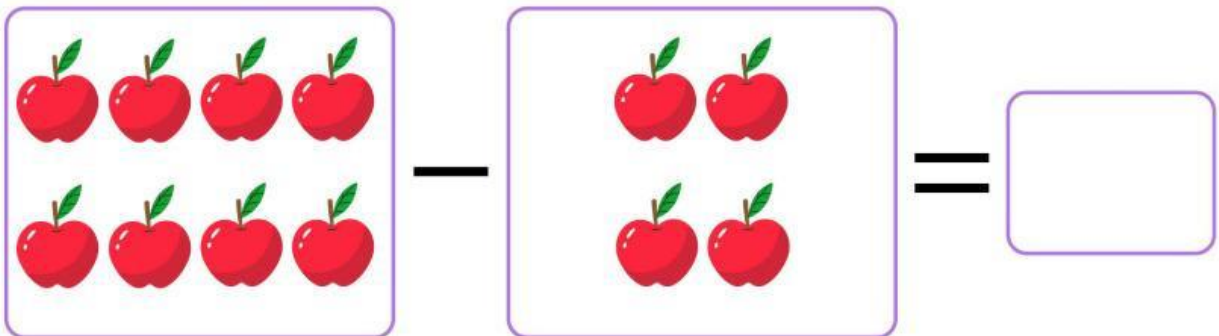
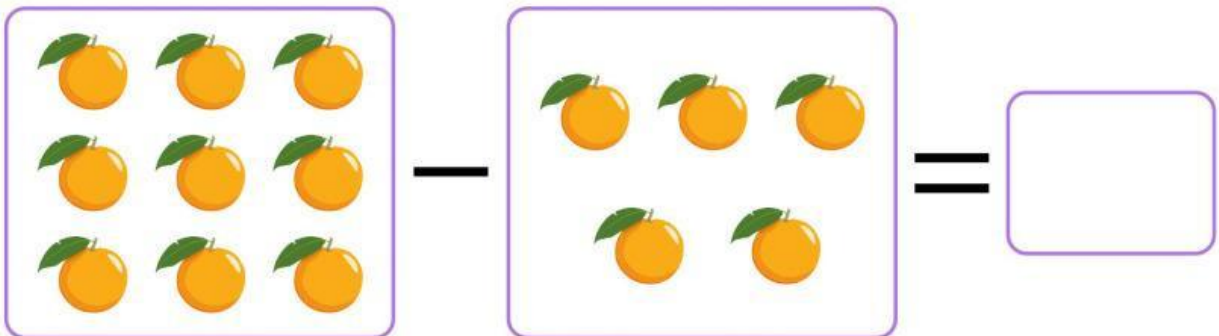
Nama :

Nama:

Kelas:

# YUK BELAJAR PENGURANGAN

hasilnya pada kolom yang telah disediakan!



Nama: \_\_\_\_\_

Nilai:

Tanggal: \_\_\_\_\_

# Labirin Matematika

Isi kotak-kotak yang masih kosong dengan angka yang sesuai sehingga membentuk urutan perhitungan matematika yang benar dan tidak terputus.

5	+	...	=	7
				-
2	=	...		...
-				=
...	=	4	+	4

...	+	4	=	12
				-
3	=	...		...
-				=
15	=	...	+	7

10	-	4	=	...
				+
...	=	7		3
+				=
4	=	5	-	...

15	-	...	=	10
				-
2	=	...		2
-				=
...	=	8	+	...