

LKPD

Matematika

Tema: Mengenal Bentuk

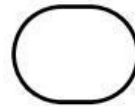
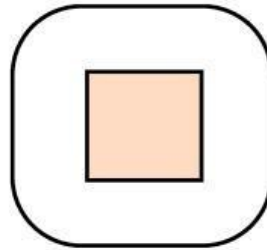
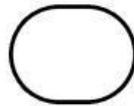
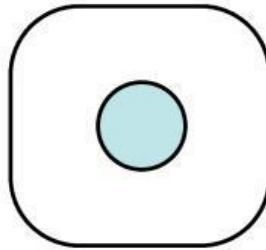

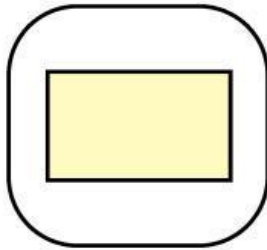
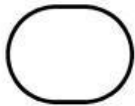
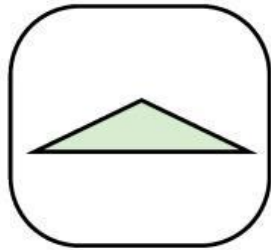
Nama: _____ Kelas: _____



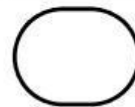
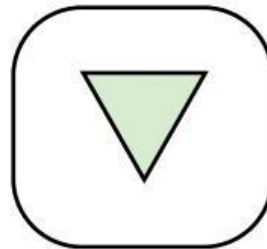

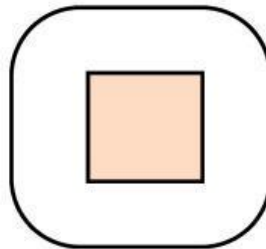

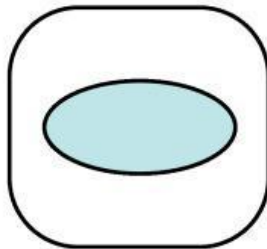
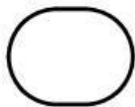
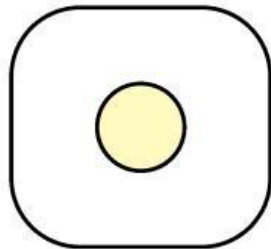
Pilih Bentuk Sesuai Namanya

Perhatikan nama bentuk kemudian berilah tanda centang (v) pada bentuk yang sesuai.


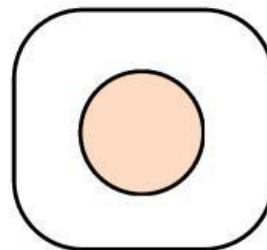


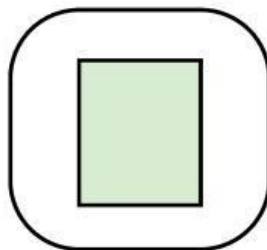
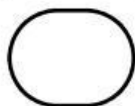

Segi empat



Segitiga

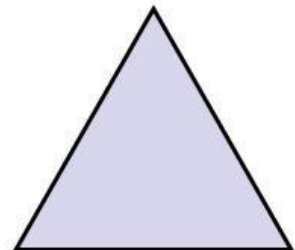



Bentuk lengkung




Pasangkan Benda dengan Bentuknya

Tarik garis pada benda yang memiliki bentuk yang sama dengan bentuk di sebelah kanan.



Menemukan Bentuk di Sekitar

Pindahkan benda acak berikut yang memiliki bentuk sesuai yang ada di dalam kotak.



Segi empat

Bentuk lengkung

Segitiga

Empty box for sorting items with a square shape (Segi empat).

Empty box for sorting items with a curved shape (Bentuk lengkung).

Empty box for sorting items with a triangle shape (Segitiga).

Pilihlah Jawaban yang Benar!

Perhatikan soal dan pilihlah jawaban yang benar dan sesuai

1. Perhatikan gambar berikut!



Gambar yang berbentuk lengkung yaitu nomor....

1

2

3

2. Perhatikan gambar berikut!



Benda di atas berbentuk....

Segitiga

Segi empat

Lengkung

3. Perhatikan gambar berikut!



Lina memiliki makanan seperti gambar di samping. Makanan milik Lina berbentuk....

Segitiga

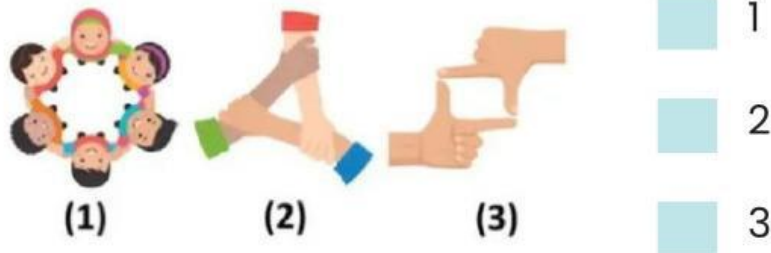
Segi empat

Lengkung


Pilihlah Jawaban yang Benar!

Perhatikan soal dan pilihlah jawaban yang benar dan sesuai

4. Bentuk segi empat yang dibuat dengan tangan yaitu nomor...



5. Perhatikan gambar berikut!



Gambar di samping tersusun atas segitiga

- 4
5
6

Mengenali Bentuk Benda Sekitar

Tuliskan nama bentuk sesuai gambar di bawah ini
(Segitiga, Segi empat, atau Lingkaran/Lengkung)



Lingkaran

