

LKPD




Nama:

Kelas:

Sistem Pernapasan Manusia

Perhatikan video di bawah ini!

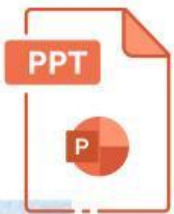


Materi



Sistem Pernapasan Manusia

Perhatikan materi PPT di bawah ini!



MENGENAL ORGAN PERNAPASAN

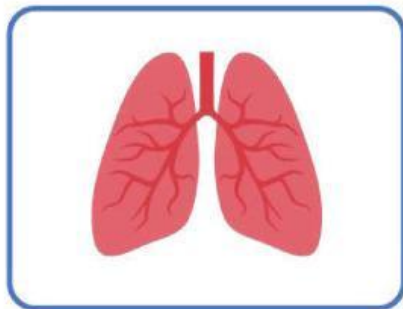
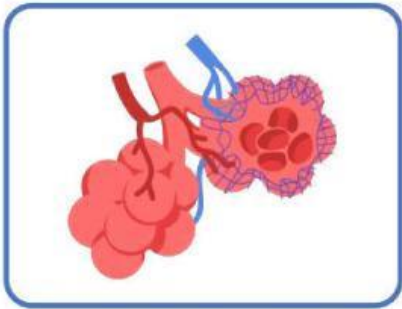
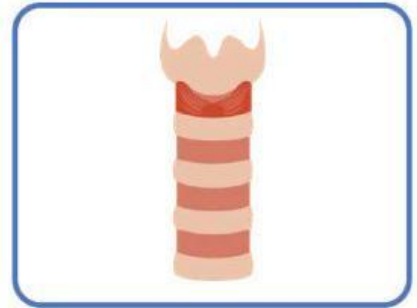
Nama:

Kelas:



Panduan

Pindahkan tulisan organ pernapasan pada bawah gambar yang disediakan



Paru-paru

Bronkus

Alveolus

Faring

Hidung

Trakea

MENCOCOKKAN ORGAN PERNAPASAN

Nama:

Kelas:



Panduan

Amati gambar organ-organ pernafasan manusia di sebelah kiri. Hubungkan dengan nama organ tersebut.



Faring



Paru-Paru



Hidung



Alveolus

Pilihlah jawaban yang benar!

1. Perhatikan gambar di bawah ini!



Gambar di samping adalah organ...

- hidung
- alveolus
- paru-paru

2. Di bawah ini yang termasuk fungsi hidung adalah...

- Penyaring udara masuk
- Tempat pertukaran oksigen dan karbondioksida
- Menghasilkan suara

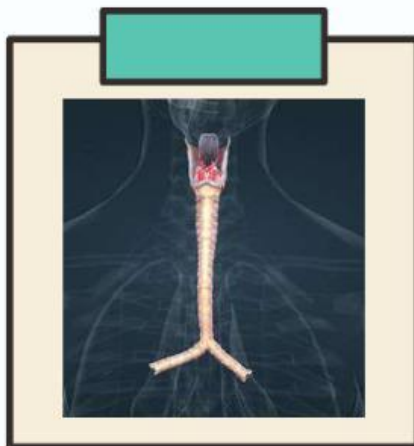
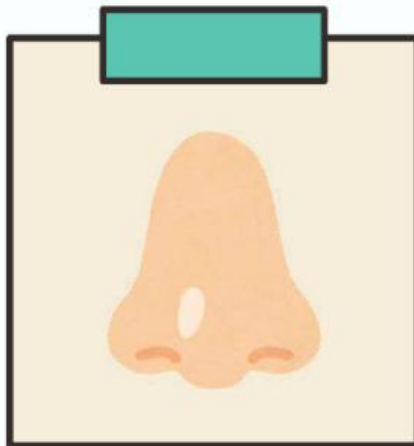
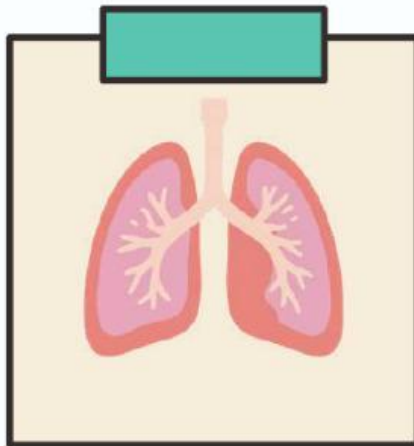
3. Perhatikan kolom di bawah ini!

C	U	N	A	K	I	H
N	K	A	M	S	L	I
S	Y	P	W	Z	A	D
N	I	A	N	U	L	U
O	K	S	I	G	E	N
C	O	G	A	S	W	G

Temukan 3 kata tentang sistem pernapasan pada kotak di samping

PENGUCAPAN ORGAN PERNAPASAN

Sebutkan nama-nama organ di bawah ini
dengan tepat!



ORGAN PERNAPASAN

Dengarkan soal berikut dan tuliskan jawabannya pada kolom yang tersedia



1.



2.



3.



4.

FUNGSI ORGAN PERNAPASAN

Nama:

Kelas:



Panduan

Tuliskan fungsinya organ-organ pernafsan manusia, yang sesuai dengan organ tersebut.

ORGAN	FUNGSI
Hidung	
Faring	
Laring	
Trakea	
Paru-Paru	



Selamat Belajar

