

# LKPD

## Matematika Kelas 1

### Bab 3 Penjumlahan dan Pengurangan 1 Sampai dengan 10


Nama: \_\_\_\_\_

Kelas: \_\_\_\_\_



Pilih angka yang sesuai untuk jumlah benda berikut.

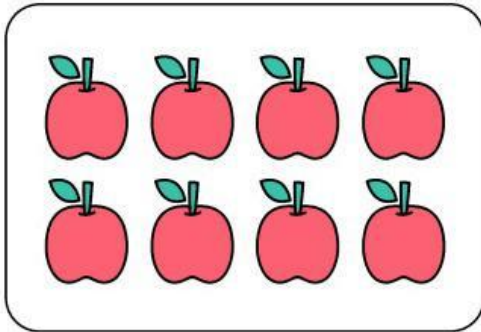
Hitung benda di kolom kiri, lalu beri tanda centang pada angka di sebelah kiri yang sesuai dengan jawaban yang benar.



9

7


3



7

8

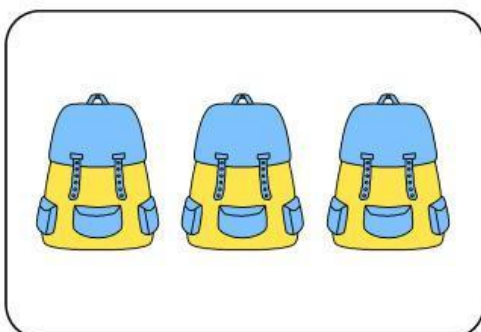
3



9

6

8



1

6

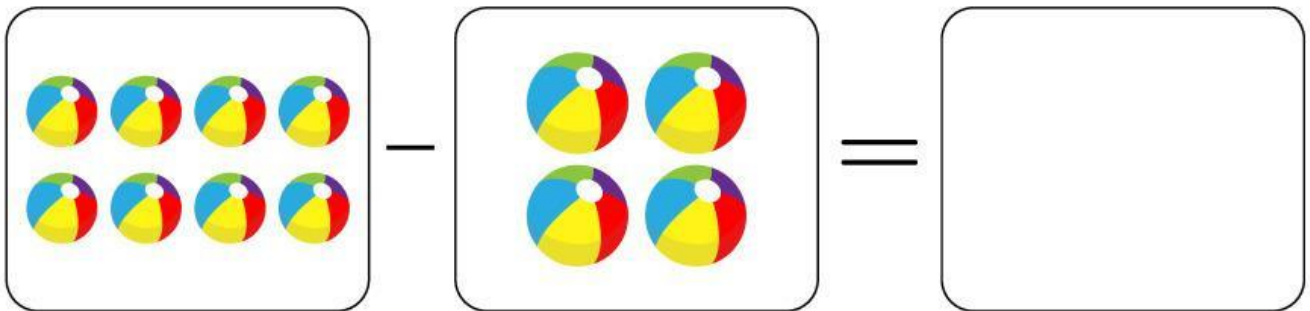


3

# Menghitung hasil pengurangan



## Bagian 1

Hitung dan tuliskan hasil pengurangan berikut:



# Memahami konsep pengurangan



## Bagian 2

Cocokkan pada jawaban yang benar!

$4+3=?$

2

$7-5=?$

9

$6+3=?$

7

$8-4=?$

4



# Teka-Teki Operasi Hitung Pengurangan

Isilah kotak sesuai dengan operasi hitung pengurangan yang benar.

				6					
	8	-	2	=					
					-				-
				=	3	-	2	=	
10	-		=		=				=
				-					8
									-
				=					
8	-		=	2					=
					7	-		=	4