

Nama: \_\_\_\_\_ Kelas: \_\_\_\_\_

Modul latihan Soal

# BILANGAN CACAH

BACA, TULIS, PAHAMI!



Matematika Kelas V

**Tonton Video ini untuk membantumu  
mengerjakan LKPD ini dengan meng-klik  
bagian tengah gambar !**

## A. Nilai Tempat pada Uang

**Petunjuk:** Seret jawaban pada kotak dibawah uang. Sesuaikan dengan gambar uang.



Satuan

Puluhan Ribu

Ribuan

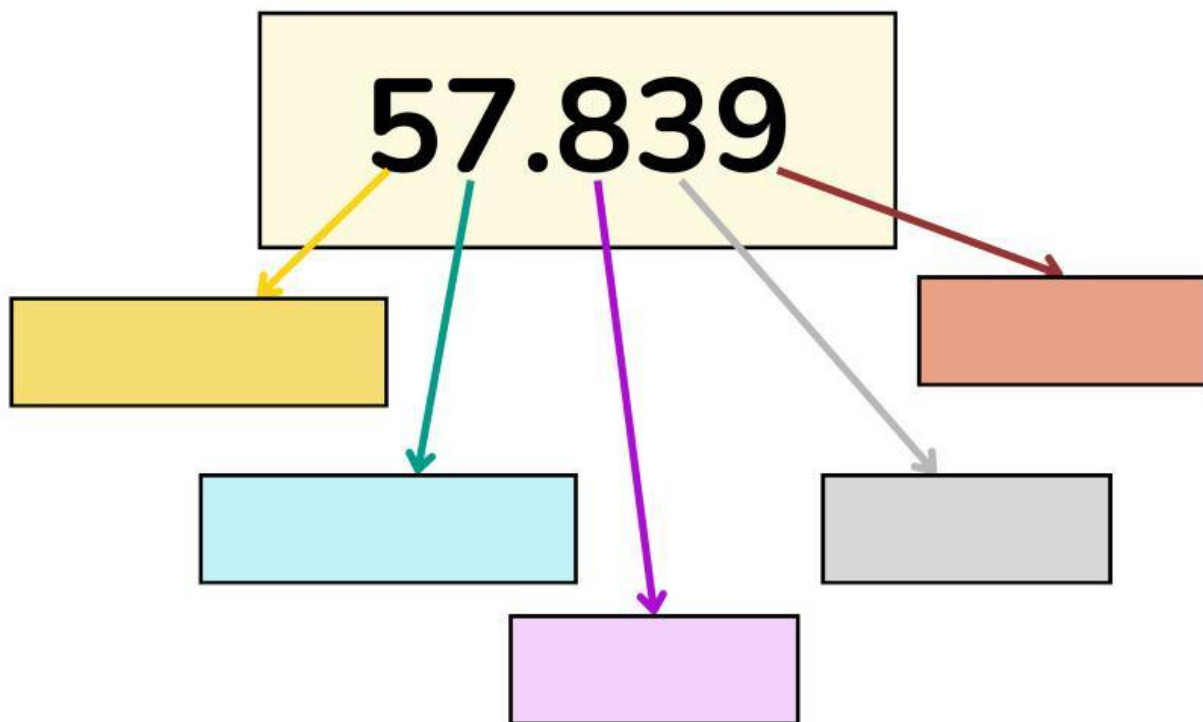
Ratusan

Ratusan Ribu

Puluhan

## B. Nilai Tempat pada Bilangan

Petunjuk: Tulis Nilai Tempat pada Bilangan dibawah ini !



## C. Cara Membaca Bilangan pada Uang

**Petunjuk:** Bacalah bilangan di bawah ini dengan benar. Tulis Nominal (Angka sesuai yang tertera pada gambar uang) dan cara membacanya dalam kotak yang tersedia.



Nominal : .....

Dibaca dengan : .....



Nominal : .....

Dibaca dengan : .....





Nominal : .....

Dibaca dengan : .....

## D. Cara Membaca Bilangan

**Petunjuk:** Bacalah bilangan di bawah ini dengan benar. Tulis cara membacanya dalam kotak yang tersedia.

Bilangan	Lambang Uang dan Cara Membaca
15.950	
Cara Membaca Bilangan Diatas :	_____
44.500	
Cara Membaca Bilangan Diatas :	_____



## E. Menentukan Angka dari Bilangan

**Petunjuk:** Tulislah angka dari bilangan yang disebutkan berikut.

Tiga puluh enam ribu dua ratus lima puluh



Lima puluh tujuh ribu delapan ratus



Enam puluh lima ribu seratus tiga puluh



Delapan puluh delapan ribu sembilan ratus enam puluh tiga

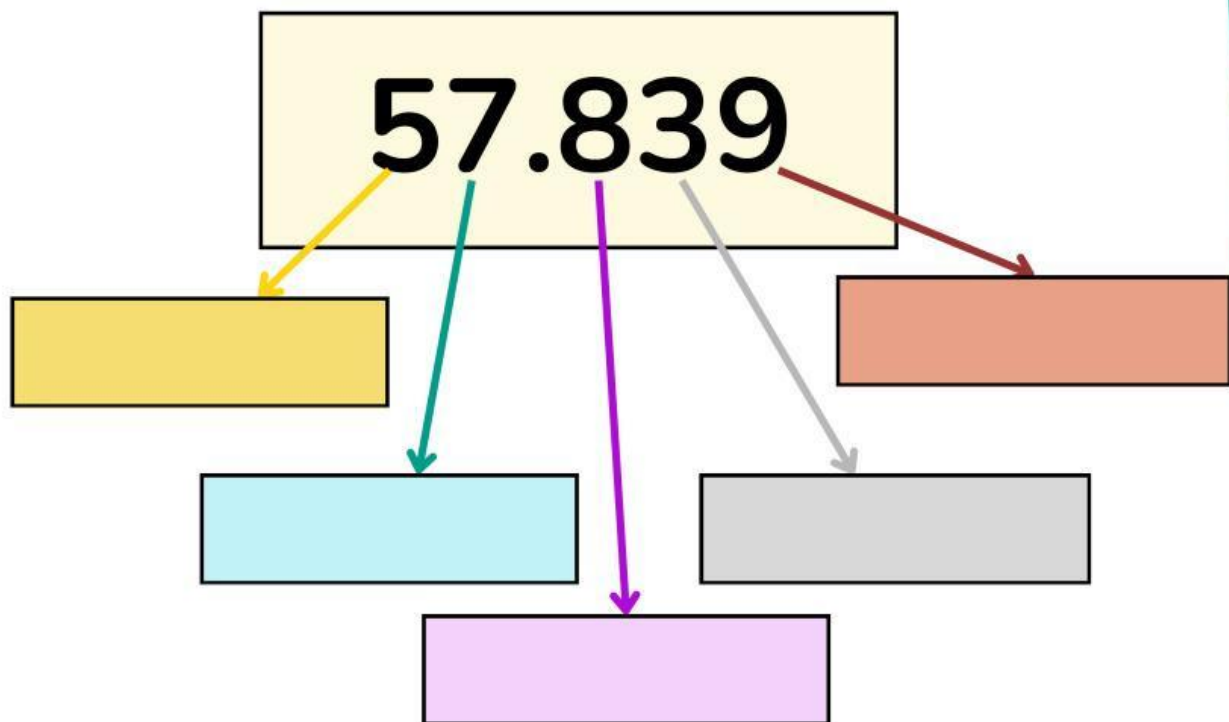


Dua puluh lima ribu tujuh ratus delapan puluh enam



## F. Menentukan Nilai Angka

**Petunjuk:** Seret Nilai Angka pada Bilangan dibawah ini !



800

50.000

30

7.000

9

70.000

## C. Menentukan Nilai Tempat & Nilai Angka

### Petunjuk:

Perhatikan bilangan berikut. Tentukan nilai tempat dan nilai angka yang digarisbawahi!

**67.345**  
—

Nilai tempat: \_\_\_\_\_

Nilai angka: \_\_\_\_\_

**45.862**  
—

Nilai tempat: \_\_\_\_\_

Nilai angka: \_\_\_\_\_

**13.456**  
—

Nilai tempat: \_\_\_\_\_

Nilai angka: \_\_\_\_\_

**88.976**  
—

Nilai tempat: \_\_\_\_\_

Nilai angka: \_\_\_\_\_

## D. Tabel Nilai Tempat

**Petunjuk:** Lengkapi tabel nilai tempat di bawah ini!

Bilangan	Puluh Ribuan	Ribuan	Ratusan	Puluhan	Satuan
14.500	_____	_____	_____	_____	_____
25.786	_____	_____	_____	_____	_____
96.725	_____	_____	_____	_____	_____
73.849	_____	_____	_____	_____	_____
58.163	_____	_____	_____	_____	_____

