

ŽMONIŲ GYVENIMAS SKIRTINGAIS ISTORIJOS LAIKOTARPIAIS




Visuomeninis ugdymas

II
VARGŲ VEIDŲ DAIS

P. 8-27

1. Kokius istorijos šaltinius tiria mokslininkai? Priskirk objektams tinkamą raidę.

2 taškai



- A) Knygos, laiškai
- B) Žmonių prisiminimai, pasakojimai
- C) Meno kūriniai

- D) Dokumentai, sutartys
- E) Daiktai, jų liekanos
- F) Pastatai, jų liekanos

2. Ką praeities tyrėjams liudija urvo piešinys?
Parašyk.

2 taškai

Urvo piešinys liudija, kad

.....

3. Kuris istorijos šaltinis yra patikimesnis praeities įrodymas?
Pažymėk .


2 taškai

A) Pirminis, sukurtas tuo metu, kai įvykis įvyko.	<input type="radio"/>
B) Antrinis, sukurtas apie įvykį daug vėliau, nei jis įvyko.	<input type="radio"/>


• Argumentuok, kodėl taip manai.

4. Markas žino, kad Lietuvos valstybė įkurta XIII amžiuje, nes karalius Mindaugas karūnuotas 1253 metais. O koks šių įvykių amžius? Parašyk.


3 taškai



A) Lietuvos vardas pirmą kartą paminėtas 1009 metais



B) Žalgirio mūšis įvyko 1410 metais



C) Pirmosios olimpinės žaidynės senovės Graikijoje įvyko 776 metais prieš Kristų

5. Išrikiuok 4 užduotyje nurodytus įvykius. Laiko juostoje pažymėk jų raides.

2 taškai



6. Koks įvykis atskiria priešistorės ir senovės civilizacijų laikotarpius? Pažymėk tinkamą atsakymą.

2 taškai

A) Žmonės užsiėmė žemdirbyste	<input type="radio"/>
B) Žmonės ėmė auginti gyvulius	<input type="radio"/>
C) Žmonės ėmė naudoti raštą	<input type="radio"/>
D) Žmonės išmoko apdirbti metalą	<input type="radio"/>




• Kodėl šis įvykis reikšmingas? Argumentuok.

.....

.....

7. Kokie žmonių gyvenimo pokyčiai įvyko priešistorės laikotarpiu? Perskaityk teiginius. Jų raides įrašyk į tinkamus paveikslėlius.

2 taškai



- A) Žmonės klajojo paskui laukinius gyvūnus
- B) Žmonės nustojo klajoti ir ėmė gyventi sėsliai
- C) Žmonės tik medžiojo, žvejojo ir rankiojo maistą

- D) Sunkiam darbui palengvinti žmonės ėmė naudoti gyvulių jėgą ir paprastuosius mechanizmus
- E) Žmonės prisijaukino laukinius gyvūnus
- F) Didėjant derliui dalį maisto produktų žmonės galėjo parduoti

8. Kas po ko įvyko? Sunumeruok įvykius nuo seniausio.

3 taškai

Žmonės nustojo klajoti ir statėsi būstus iš medžio	<input type="radio"/>
Žmonės kūrėsi miestuose greta didesnių gamybos įmonių	<input type="radio"/>
Žmonės ėmė statyti pilis ir įtvirtintas gyvenvietes	<input type="radio"/>
Žmonės klajojo, todėl statėsi laikinus būstus	<input type="radio"/>
Žmonės ėmė statyti daugiaaukščius namus iš gelžbetonio ir stiklo	<input type="radio"/>

• Kuriuo laikotarpiu atsirado pirmosios mokyklos? Pažymėk .

Priešistorė

Senovės civilizacijos

Viduramžiai

Naujieji laikai

Naujausieji laikai

9. Ką žmonės gamino išmokę apdirbti geležį? Pateik po vieną pavyzdį.


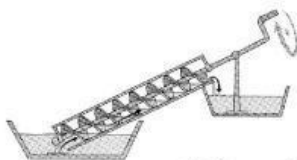

2 taškai

Įrankis

Ginklas

10. Kas kada sukurta? Pažymėk raidėmis: S – senovės laikotarpiu; V – viduramžių laikotarpiu.


2 taškai



11. Ką sukūrė naujųjų, o ką naujausiųjų laikų gyventojai?

3 taškai

Pažymėk išradimus raidėmis: N – naujųjų laikų; NN – naujausiųjų laikų.



- Kuriuo laikotarpiu buvo sukurti prisukami mechaniniai žaislai? Parašyk.

12. Išrikiuok žaislus laiko juostoje įrašęs (įrašiusi) raides.

2 taškai



A) Supamasis
arkliukas

B) Šachmatai

C) Plastikinės
kaladėlės

D) Kompiuterinis
žaidimas

E) Medinė
lėlė

