

# LKPD

## BANGUN DATAR DAN BANGUN RUANG

KELAS 5 SD

Ayo, mengenal bangun datar dan bangun ruang melalui benda-benda di sekitar kita bertema Bali!



Nama : \_\_\_\_\_ Kelas : \_\_\_\_\_ Tanggal : \_\_\_\_\_

### Petunjuk:

1. Bacalah setiap instruksi dengan teliti.
2. Kerjakan setiap kegiatan dengan jujur.
3. Jika selesai, klik tombol "FINISH".



### Kegiatan 1 Mengenal Bangun Datar

Perhatikan gambar benda-benda di bawah ini!  
Tentukan nama bangun datar yang sesuai dengan benda tersebut!



1.
2.
3.
4.
5.

Pilihan jawaban:

Persegi

Persegi Panjang

Segitiga

Lingkaran

Belah Ketupat

### Kegiatan 2 Mengenal Bangun Ruang

Tariklah (drag) nama bangun ruang yang sesuai lalu letakkan pada gambar benda di bawah ini!

Kubus



Balok

Tabung

Kerucut








Bola

### Kegiatan 3 Menghitung Sisi, Rusuk, dan Titik Sudut

Lengkapilah tabel berikut berdasarkan bangun ruang di samping!



Bangun Ruang	Banyak Sisi	Banyak Rusuk	Banyak Titik Sudut
			
			
			
			
			

### Kegiatan 4 Ayo, Temukan di Sekitarmu!

Sebutkan 2 benda di lingkungan sekitarmu yang berbentuk bangun datar dan 2 benda yang berbentuk bangun ruang!  
Tuliskan nama benda dan bangun datarnya/ruangnya!

#### Bangun Datar

1. Nama benda: \_\_\_\_\_  
Bangun datar: \_\_\_\_\_
2. Nama benda: \_\_\_\_\_  
Bangun datar: \_\_\_\_\_

#### Bangun Ruang

1. Nama benda: \_\_\_\_\_  
Bangun ruang: \_\_\_\_\_
2. Nama benda: \_\_\_\_\_  
Bangun ruang: \_\_\_\_\_

### Refleksi

Berikan tanda centang (✓) pada pernyataan yang sesuai denganmu!

- Saya sudah memahami perbedaan bangun datar dan bangun ruang.
- Saya dapat menemukan bangun datar dan bangun ruang di sekitar saya.
- Saya berusaha mengerjakan LKPD ini dengan sungguh-sungguh.