

2025/2026 学年期中评估

6 年级美术

姓名: _____ 班级: 6 () 成绩: _____

时间: 1 小时 总分: 50%

A 选择题: 每道题目有四项选择: A、B、C 和 D, 其中只有一项是对的。

圈出正确的答案。(20%)

1. 下列哪一项是可以用线条来形成?

- A 温度
- B 图形
- C 材料
- D 颜色

2. _____ 可以是透过色块、形状构成画面的抽象绘画或者以平面几何图形进行排列和组成的绘画。

- A 广告牌
- B 硬边绘画
- C 壁画艺术
- D 复合抽象式随想插画

3. 画成人的全身像时, 头与身体的比例通常是多少?

- A 4 个头
- B 6 个头
- C 8 个头
- D 10 个头

4. 成人的头部正面高度与宽度的比例约为多少比例?

- A 1:1
- B 3:2
- C 4:2
- D 4:3

5. 以下是属于什么作品?



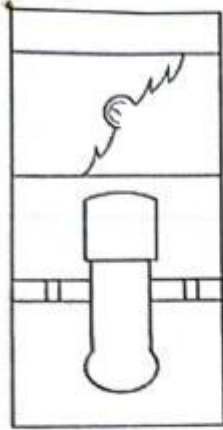
- A 雕刻
- B 硬边绘画
- C 动态吊饰
- D 复合抽象式插画

6. 动态吊饰摆动时的“和谐感”主要通过什么方式实现?


- A 采用单一颜色的设计
- B 增加吊饰的旋转速度
- C 使用完全相同的装饰部件
- D 平衡不同重量部件的悬挂位置

7. 以下哪项是前线人员的背面?

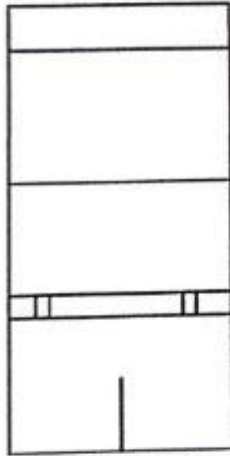
A




B



C



D



8. 以下哪项是制作木雕的材料?

- A 木材
- B 铁片
- C 肥皂
- D 塑料片

9. 以下哪些是壁画作品?

I



II



III



IV



- A I 和 III
- B I 和 IV
- C I、II 和 III
- D II、III 和 IV

10. 以下图片使用哪种构图?



- A C 形构图
- B O 形构图
- C S 形构图
- D 三角形构图




B 简答题：下图是一张运用线条绘画而成的图画。请在横线上填写正确的答案。（10%）



曲线	图形	交叉线	空间	平行线
----	----	-----	----	-----



C 填充题：根据以下图片，填写正确答案。(10%)

电子广告看板	拼凑	减缩	促销看板	固定雕塑
--------	----	----	------	------

		
16.	17.	18.

	
19.	20.

D 是非题：对的画√，错的画X。(10%)

21. 广告牌的主要功能是装饰和美化城市景观。----- ()
22. 插图在广告牌中并不重要，因为人们只阅读文字信息。-- ()
23. 广告牌应设置在容易让人察觉和观看的位置。----- ()
24. 壁画艺术早在旧石器时代已存在。----- ()
25. 现代壁画和原始洞穴壁画一样，都只能在洞穴内创作。-- ()