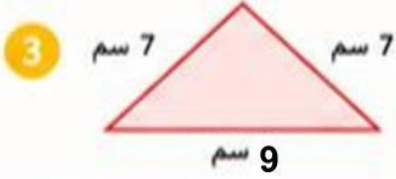
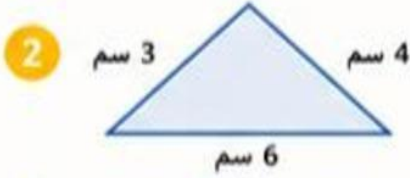
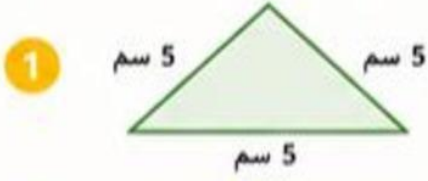


الاسم :

المستوى : نحو الاتقان

الوحدة 13: الهندسة-الدرس 4: نشاط عملي- المثلثات

صنف كل مثلث حسب أطوال أضلعه واكتب نوعه .



صل كل وصف بالنوع المناسب له :

● جميع أضلعه متساوية

● مثلث مختلف الأضلاع

● له ضلعان متساويان

● مثلث متساوي الساقين

● أضلعه مختلفة

● مثلث متساوي الأضلاع

اعداد المعلمة : حصه علي

