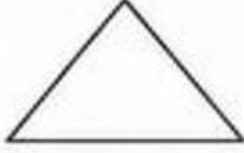




مجموعة الفخر أصحاب الهمم



1 نون الأشكال التالية:



المثلث باللون الأزرق





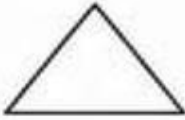
شبه المنحرف باللون الأخضر



2 ضع دائرة حول المثلث:



3 ضع ✓ تحت شبه المنحرف:



عنوان الدرس: المثلث وشبه المنحرف
الهدف: أن يحدد الطالب أشباه المنحرفات والمثلثات وصفها باستخدام
صفات معينة ومميزة.

اليوم: _____ التاريخ: _____

اسم الطالب: _____

تقييم المعلمة:



ممتاز



جيد



يجتاج دعم

التقييم الذاتي للطالب:



أحببت الدرس



أجدهم ممتعاً



أبغضت الدرس

LIVEWORKSHEETS