





Họ và tên: _____

Ngày: _____

Câu 1: (1 điểm) Nói đúng?



Hình vuông	
Hình tròn	
Hình chữ nhật	
Hình tam giác	

Câu 2. (1 điểm) Điền số thích hợp vào chỗ chấm:

- Số liền trước của 10 là.....
- Số liền trước của 19 là.....
- Số 13 gồm..... chục..... đơn vị.

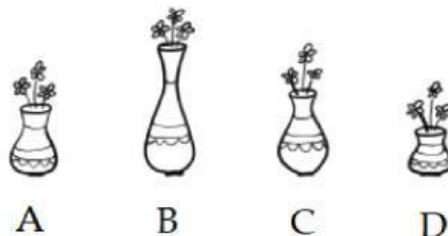
Câu 3: (1 điểm) Số bé nhất có hai chữ số giống nhau là số:

- A. 11 B. 12 C. 13 D. 14

Câu 4: (1 điểm) Chị Lan mua được 34 quả cam. lát sau mẹ đi chợ mua thêm 12 quả nữa. Hỏi chị Lan và mẹ mua được tất cả bao nhiêu quả cam?

- A. 63 B. 36 C. 46 D. 54

Câu 5: (1 điểm) Cho hình dưới đây:



Lọ hoa nào cao nhất?

- A. Lọ A B. Lọ B C. Lọ C D. Lọ D

Câu 6: (1điểm) Đánh dấu nhân vào ô trống ở mỗi phép tính có kết quả lớn hơn 48

$34 + 22$

$33 + 10$

$99 - 33$

$90 - 50$

Câu 7: Điền dấu $<$, $>$, $=$ vào chỗ chấm:

$36 + 12$ $13 + 24$

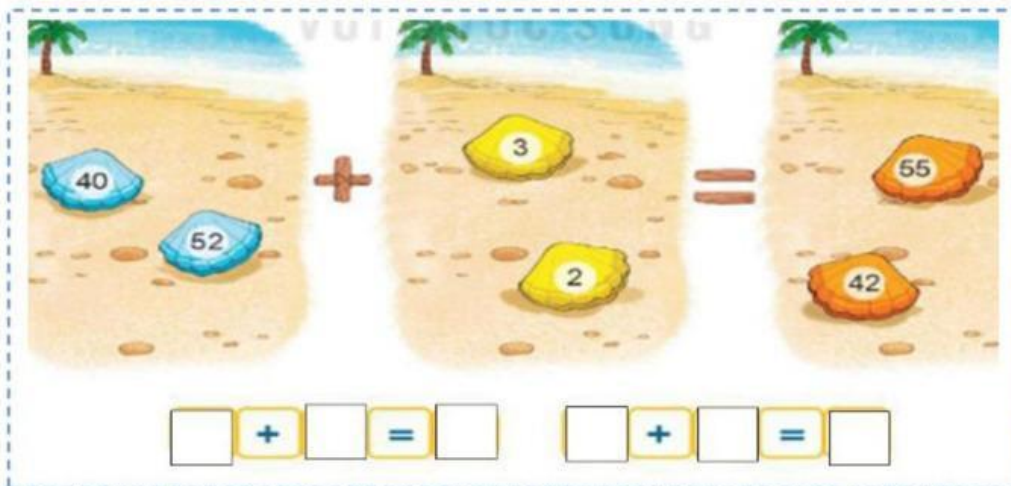
$29 - 14$ $5 + 14$

$94 - 2$ $81 + 11$

Câu 8: Điền số thích hợp vào chỗ chấm:

- Số liền trước của 50 là.....
- Số liền trước của 69 là.....
- Số tròn chục liền sau số 30 là:
- Số ở giữa số 23 và 25 là
- Số gồm 4 chục 0 đơn vị.

Câu 9: Lập phép tính tương ứng



+ = + =

Câu 10: Chị Hà mua được 78 chậu hoa. Lát sau Lan đi chợ mua thêm 12 chậu hoa nữa. Hỏi Hà và Lan mua được tất cả bao nhiêu chậu hoa ?

--	--	--	--	--