




**COLEGIO DE LAS R.R.
ESCLAVAS DEL SAGRADO CORAZÓN DE JESÚS**

Aprobado por el M.E.N:
Resolución No 01-0015 del 26 de Abril de 2024
"Todos Unidos en todo con los dedos de la mano"














TALLER No.1 GRADO 6

ESTADÍSTICA

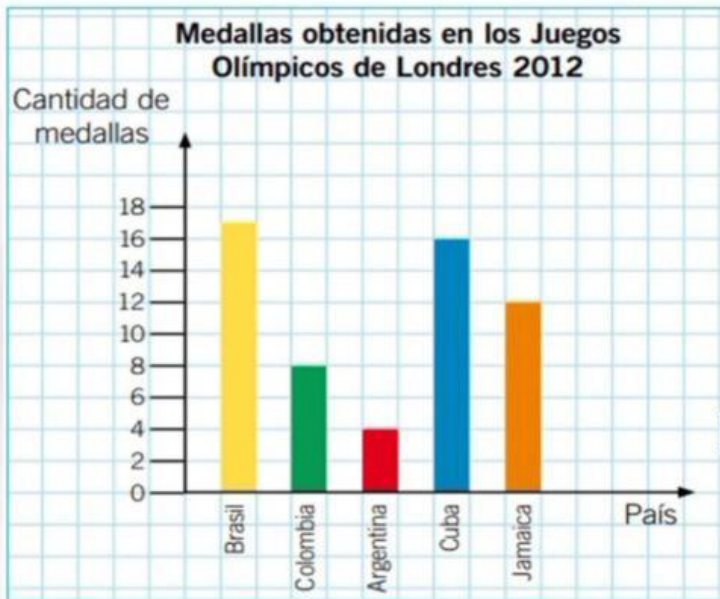
Cantidad de goles por partidos			
			
Partido 1	Partido 2	Partido 3	Partido 4

 = 3 goles

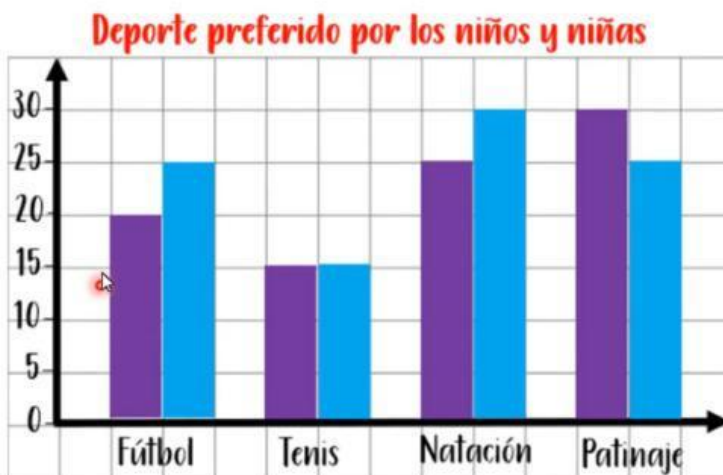
- 1 ¿Cuántos goles hicieron en el segundo partido? _____.
- 2 ¿En qué partido hicieron más goles? _____.
- 3 ¿Cuántos goles más que **tercer** partido realizaron en el **primero**? _____.
- 4 ¿Cuántos goles realizaron en total en los 4 partidos? _____.

Tomates	 = 10  = 1
Lunes	 
Martes	
Miércoles	  
Jueves	 
Viernes	  

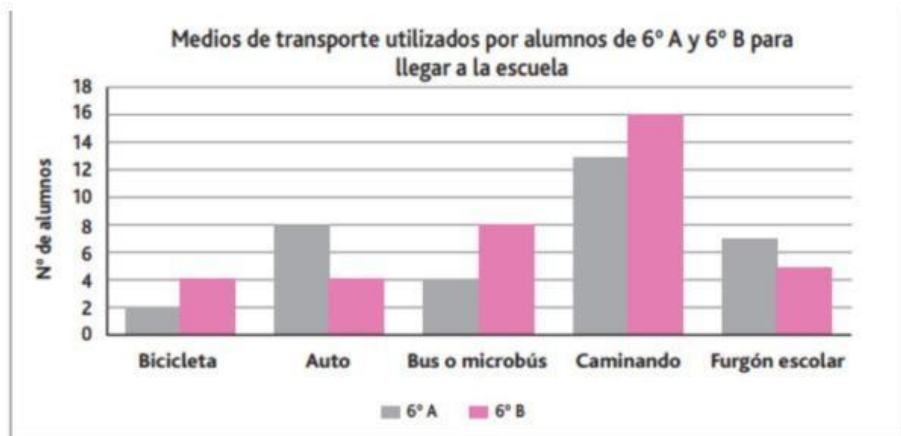
- 5 ¿Cuántos kg de tomates se han vendido el lunes?
.....
- 6 ¿Y cuántos kg tomates se han vendido el viernes?
.....
- 7 ¿Cuántos más kg de tomates se vendieron el jueves que el martes?



- 8 ¿Cuál fue el país que obtuvo más medallas? _____.
- 9 ¿Cuántas medallas obtuvo Cuba? _____.
- 10 ¿Cuál fue el país que obtuvo menos medallas? _____.
- 11 ¿Cuántas medallas más que **Argentina** obtuvo **Colombia**? _____.

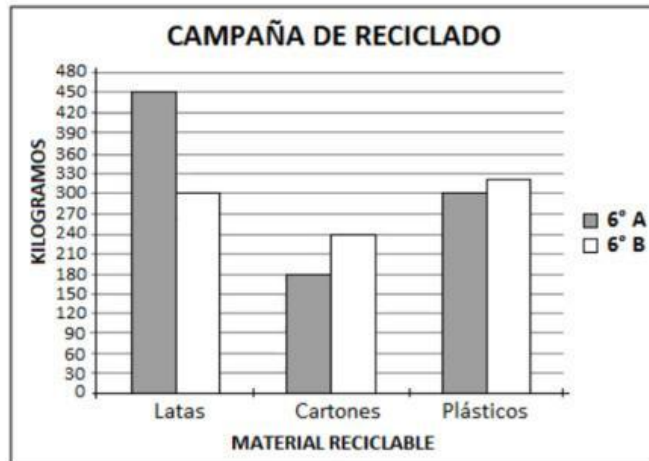


- 12 ¿Cuántas personas contestaron la encuesta?
- 13 ¿Cuántos niños y niñas tienen como deporte favorito el tenis?
- 14 ¿Cuántos niños prefieren más el fútbol que niñas?



- 15 _____ En el 6° B, 7 alumnos llegan a la escuela en furgón escolar.
- 16 _____ En ambos cursos, la mayoría llega a la escuela en auto.
- 17 _____ El 6° B tiene 39 alumnos.
- 18 _____ En ambos cursos llegan más alumnos caminando que en furgón escolar.
- 19 _____ La bicicleta es el medio de transporte menos utilizado para llegar a la escuela.
- 20 _____ En 6° B los que llegan en auto, son el doble de los alumnos que lo hacen en bus o microbús.
- 21 _____ El 6° A tiene menos alumnos que el 6° B.

La escuela realiza una campaña para el reciclado. Los sextos básicos reunieron las cantidades que se muestran en el gráfico.



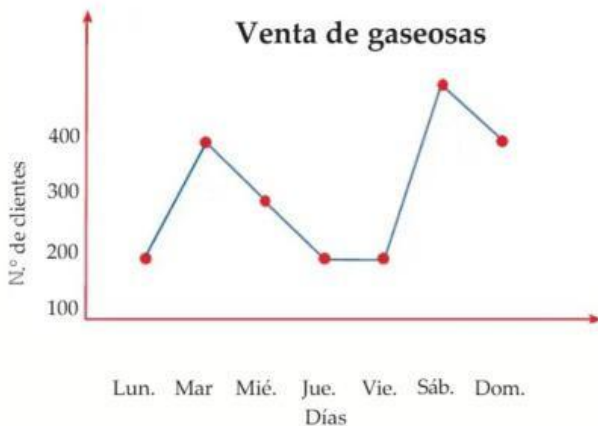
Responde:

22 ¿Cuál es el curso que juntó más kilogramos de material para el reciclaje?

.....

23 ¿Cuántos kilogramos de diferencia hay entre los dos cursos?

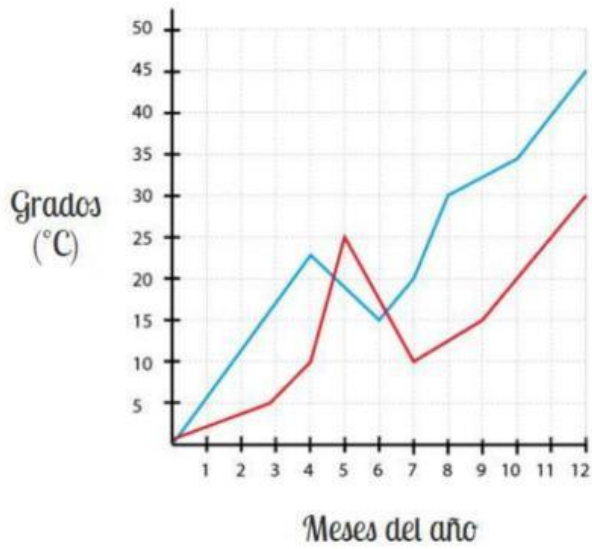
.....



24 ¿Cuántas gaseosas se vendieron el día jueves y el día domingo?

25 ¿Cuántas gaseosas más se vendieron el día sábado que el día lunes?

26 ¿Qué día se vendieron más gaseosas y cuántas gaseosas se vendieron en total?



27 ¿Cuántos grados hizo en Málaga en febrero?

.....

28 ¿Cuántos grados hizo en Huesca en diciembre?

.....

29 ¿En septiembre hizo más calor en Huesca o en Málaga? ¿Cuántos?

.....

30 ¿En mayo hizo más calor en Huesca o en Málaga? ¿Cuántos?

.....