

IPAS

Lembar kerja Peserta Didik

LKPD

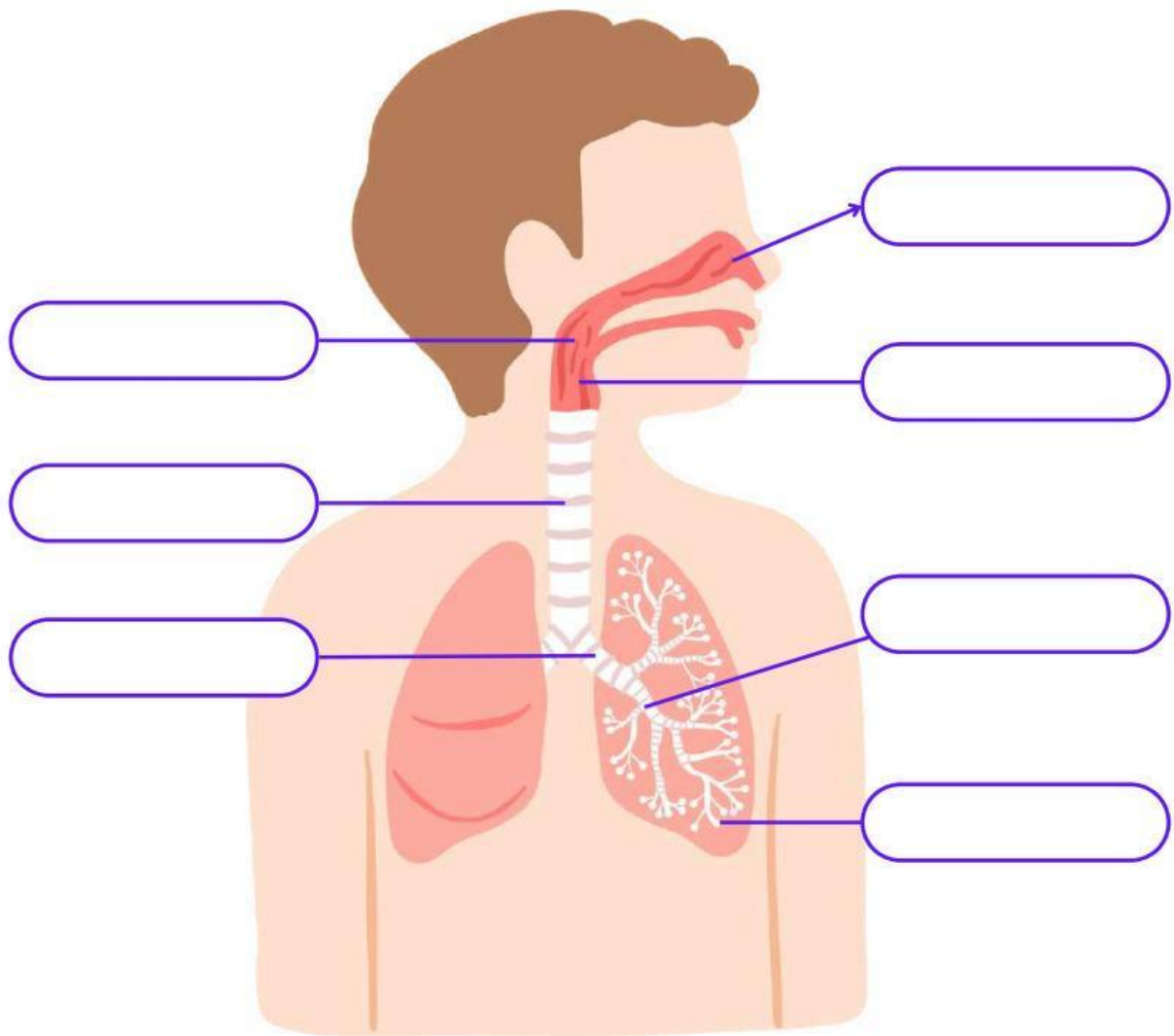
Latihan Soal

by: Syifa Azzahra

Kelas
5A

ORGAN PERNAPASAN MANUSIA

Pasangkan bagian-bagian organ pernapasan sesuai gambar di bawah ini!



Gunakan nama organ pernapasan berikut untuk melengkapi gambar di atas

Laring

Trakhea

Brokhiolus

Hidung

Bronkhus

Alveolus

Faring

Paru-paru

PEMANFAATAN SUMBER DAYA ALAM

A. Kelompokkan teks yang ada di bawah ini ke dalam dua kategori: Sumber Daya Alam Hayati dan Sumber Daya Alam Nonhayati.

Tembaga

Pasir

Bambu

Gas Bumi

Ayam

Besi

Matahari

Tanah

Lidah buaya

Ulat sutra

Air

Tidak dapat diperbarui

Udara

Dapat diperbarui

Makhluk hidup

Emas

Benda mati

Sumber daya alam hayati

Ciri-ciri:

1. _____
2. _____

Contoh:

1. _____
2. _____
3. _____
4. _____

Sumber daya alam nonhayati

Ciri-ciri:

1. _____
2. _____

Contoh:

1. _____
2. _____
3. _____
4. _____
5. _____

B. Tuliskan tiga contoh sumber daya alam hayati dan nonhayati sesuai dengan cara pemanfaatannya pada tabel di bawah ini!

Cara pemanfaatan	Contoh sumber daya alam
1. Bahan pangan	Ikan, sayur, dan buah-buahan
2. Bahan obat-obatan	
3. Bahan kosmetik	
4. Sumber energi	

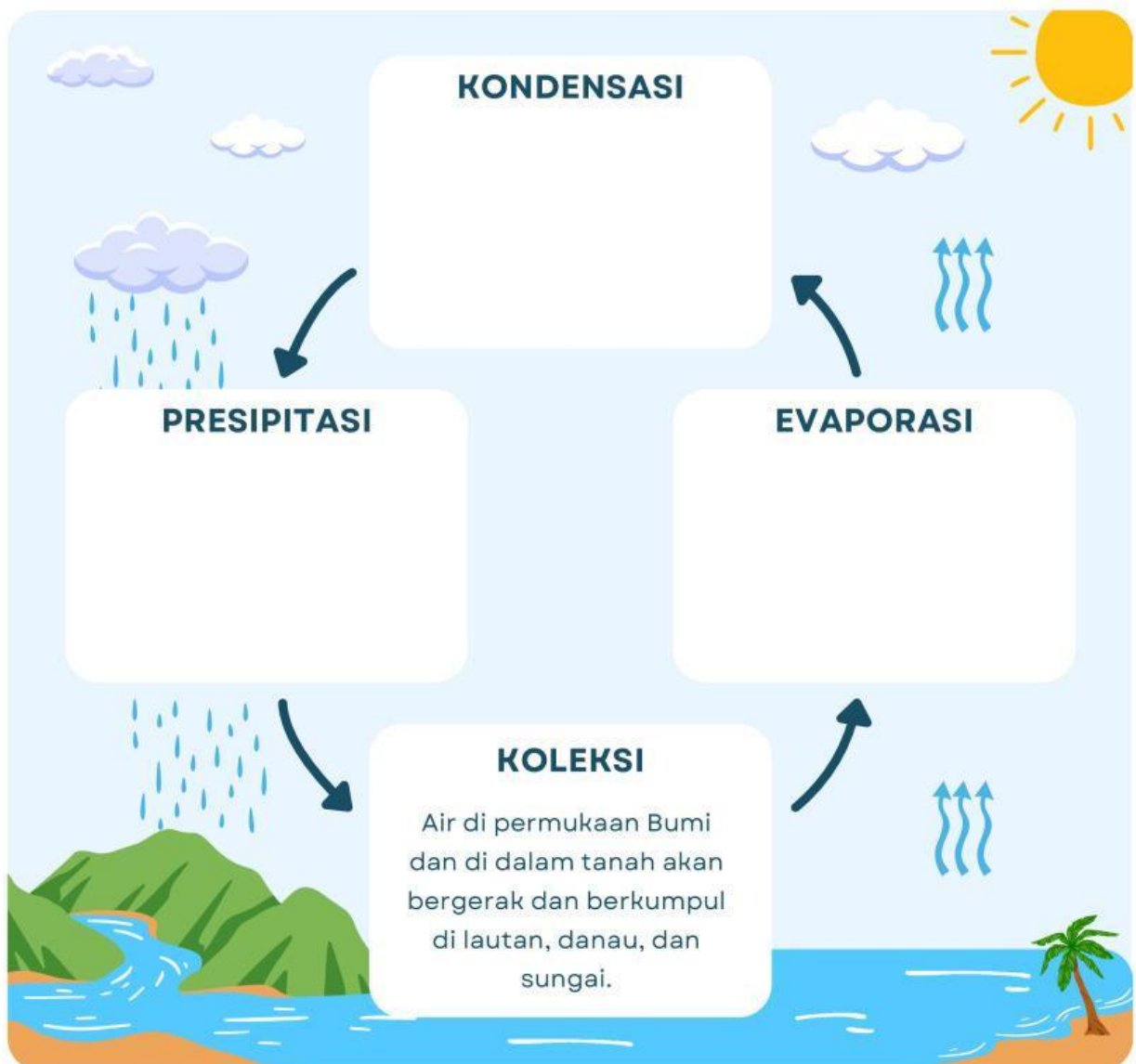
SIKLUS AIR & CUACA



A. Jawablah pertanyaan-pertanyaan di bawah ini!

1. Jelaskan apa itu cuaca?
2. Tuliskan lima jenis cuaca!

B. Jelaskanlah proses siklus air pada kolom di bawah ini!



Perubahan Bumi

Pilihlah jawaban yang paling benar!

- 1. Gunung meletus dapat menyebabkan permukaan bumi menjadi...**
 - A. Rata
 - B. Bertambah tinggi
 - C. Bergelombang
 - D. Hilang seluruhnya
- 2. Tanah longsor sering terjadi karena...**
 - A. Angin kencang
 - B. Lereng yang curam dan hujan deras
 - C. Cahaya matahari
 - D. Kekeringan
- 3. Perubahan permukaan bumi yang disebabkan oleh air laut disebut...**
 - A. Erosi
 - B. Abrasi
 - C. Sedimentasi
 - D. Vulkanisme
- 4. Gempa bumi dapat terjadi karena...**
 - A. Hujan deras
 - B. Pergerakan lempeng bumi
 - C. Cahaya bulan
 - D. Pohon tumbang
- 5. Salah satu cara mencegah tanah longsor adalah dengan...**
 - A. Menebang pohon di lereng
 - B. Menanam pohon di lereng
 - C. Membiarkan tanah gundul
 - D. Membuat sungai baru



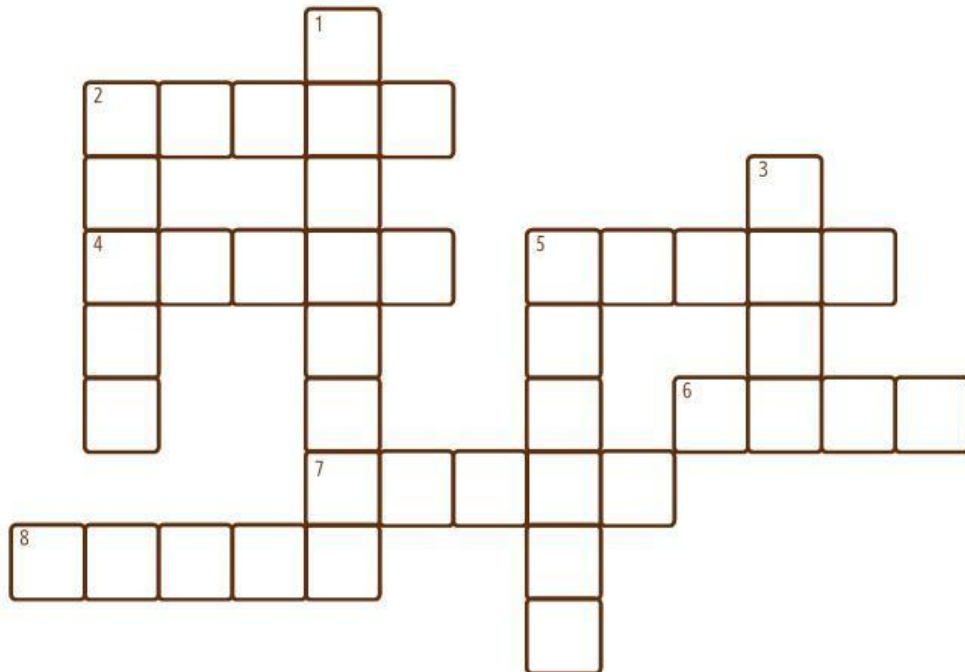
Perubahan Bumi

Jawablah pertanyaan berikut dengan singkat!

1. Apa yang dimaksud dengan gunung meletus?
2. Apa penyebab terjadinya tanah longsor?
3. Bagaimana cara manusia mencegah banjir?
4. Apa akibat dari penebangan hutan secara liar?
5. Mengapa kita harus menjaga bumi?

SUKU DI INDONESIA

Teka Teki Silang



Mendatar

2. Suku besar dari Sulawesi Selatan.
4. Suku terbesar yang tinggal di Kalimantan.
5. Suku yang berasal dari Sumatera Utara
6. Suku dari Papua yang terkenal dengan kotekanya.
7. Suku asli dari Pulau Lombok, Nusa Tenggara Barat.
8. Suku dari wilayah Jawa Barat.

Menurun

1. Suku dari Sulawesi Utara yang terkenal dengan rumah panggungnya.
2. Suku yang tinggal di daerah pegunungan Banten.
3. Suku terbesar di Pulau Jawa.
5. Suku asli yang tinggal di Jakarta.

