

# TEMA 2 SUB TEMA 2

Pembelajaran 1 :

NAMA SISWA/KELAS :


## PENCEMARAN UDARA

### LEMBAR KERJA PESERTA DIDIK (LKPD)


**KELAS 5**

Oleh : Jamilah S.Pd.

**SD SWASTA ISLAM AL FATIH**



Silahkan Tonton Video dibawah ini dengan mengklik area gambar TV dibawah ini:



Setelah selesai menonton video diatas. Silahkan dengarkan rekaman suara dibawah untuk mendengarkan instruksi pada latihan 1



## **LATIHAN 1**

Faktor Fisik :

Faktor Penyakit :

Faktor Lingkungan :



## LATIHAN 2

A. Pilihlah jawaban yang tepat sesuai dengan gambarnya dengan mengklik kotak pilihan jawaban!

Faktor penyebab gangguan pernapasan berdasarkan gambar disamping adalah



### B. Pilihan Ganda

Pilihlah jawaban dengan mengklik di salah satu jawaban yang benar!!


Berikut ini yang dapat menyebabkan terjadinya polusi udara adalah

A. Menanam pohon

B. Membuang sampah pada tempatnya

C. Pembakaran hutan

D. Mengurangi pemakaian listrik



C. Berilah tanda centang pada kotak yang merupakan kata tanya

<input type="checkbox"/>	Kamu	Dimana	<input type="checkbox"/>
<input type="checkbox"/>	Kapan	Berapa	<input type="checkbox"/>
<input type="checkbox"/>	Kata	Untuk	<input type="checkbox"/>
<input type="checkbox"/>	Siapa	Mengapa	<input type="checkbox"/>

D. Tariklah garis dari kotak menuju huruf pasangannya! Manakah pasangan kata tanya dan kegunaannya ?

Bagaimana

Berapa

Mengapa

Kapan

a. Alasan

b. Waktu

c. Keadaan

d. Jumlah

E. Sentuh kotak penyebab terjadinya penyakit gangguan pernapasan, kemudian arahkan ke nama penyakit di garis yang telah disediakan

#### PENYEBAB PENYAKIT GANGGUAN PERNAPASAN

Pertumbuhan sel tak terkendali dalam paru paru

Disebabkan oleh penyempitan saluran pernapasan

Disebabkan oleh Virus H5N1

ASMA

FLU BURUNG

KANKER PARU-PARU