


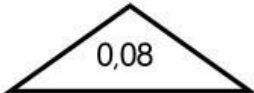

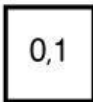
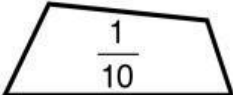
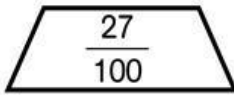





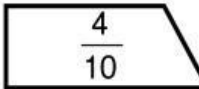
Nom _____ Data _____

Recorda

- Quan dividim una unitat en 10 parts iguals, cada part és una **dècima**.
Una dècima s'escriu $1/10$ o $0,1$.
- Quan dividim una unitat en 100 parts iguals, cada part és una **centèsima**.
Una centèsima s'escriu $1/100$ o $0,01$.

1 unitat = 10 dècimes = 100 centèsimes

1 Pinta del mateix color les figures que representen el mateix nombre.


2 Escriu la part pintada en forma de fracció i en forma decimal.




5 dècimes = _____ = 0, _____



7 dècimes = _____ = 0, _____



34 centèsimes = _____ = _____



72 centèsimes = _____ = _____

3 Escriu en forma de fracció i en forma decimal.

• 4 dècimes = _____ = _____

• 54 centèsimes = _____ = _____

• 3 dècimes = _____ = _____

• 38 centèsimes = _____ = _____