

E-LKPD

MATEMATIKA BANGUN DATAR

KELAS 2 SEKOLAH DASAR



FAZIRA NURUL AZNI

24129467

Nama:

Kelas:

VIDEO PEMBELAJARAN BANGUN DATAR

Nama :

Kelas :

MENGENAL BANGUN DATAR

Jawablah pertanyaan tentang bangun datar
dibawah dengan benar dan tepat !

①



Nama bangun datar :

Banyak sisi :

Banyak titik sudut :

②



Nama bangun datar :

Banyak sisi :

Banyak titik sudut :

③



Nama bangun datar :

Banyak sisi :

Banyak titik sudut :

④



Nama bangun datar :

Banyak sisi :

Banyak titik sudut :

⑤



Nama bangun datar :

Banyak sisi :

Banyak titik sudut :




Lembar Kerja

Bangun Datar

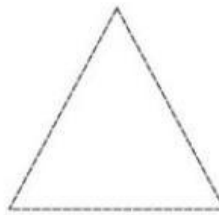


Tebalkan ruas garis pada bangun datar berikut, kemudian hitunglah berapa banyak sisi, sudut, dan titik sudutnya!



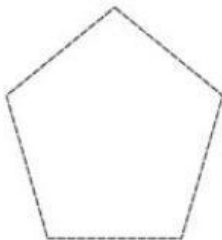
PERSEGI

Banyak sisi :
Banyak sudut :
Banyak titik sudut :



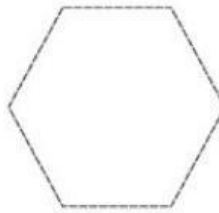
SEGITIGA

Banyak sisi :
Banyak sudut :
Banyak titik sudut :



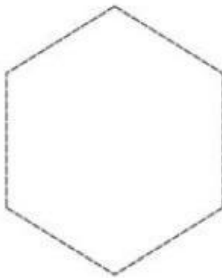
SEGI LIMA

Banyak sisi :
Banyak sudut :
Banyak titik sudut :



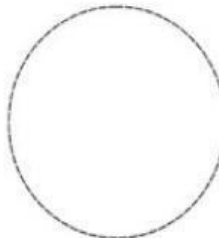
SEGI ENAM

Banyak sisi :
Banyak sudut :
Banyak titik sudut :




SEGI DELAPAN

Banyak sisi :
Banyak sudut :
Banyak titik sudut :



LINGKARAN

Banyak sisi :
Banyak sudut :
Banyak titik sudut :



TRAPESIUM

Banyak sisi :
Banyak sudut :
Banyak titik sudut :



JAJAR GENJANG

Banyak sisi :
Banyak sudut :
Banyak titik sudut :

Nama :

Kelas :

Bangun Datar

	Nama Segi Empat	Gambarlah dan sebutkan ciri-cirinya
1.	Persegi	
2.	Persegi panjang	
3.	Jajar genjang	
4.	Trapesium	
5.	Layang-Layang	
6.	Belah ketupat	

Berilah tanda pada kolom benar/salah sesuai dengan pernyataan

	Pernyataan	Benar	Salah
1.	Memiliki 4 sudut merupakan salah satu ciri dari bangun datar persegi		
2.	Persegi adalah segi empat yang semua sisi nya sama panjang		
3.	Jajar genjang memiliki empat sisi yang sama panjang		
4.	Trapesium memiliki dua pasang sisi yang sejajar		






Lembar Kerja

- MENGENAL GEOMETRI -

Berikan tanda cek (v) pada gambar yang diminta !

1. Manakah yang berbentuk persegi?




2. Manakah yang berbentuk lingkaran?





3. Manakah yang berbentuk segitiga?



4. Manakah yang berbentuk lingkaran?



5. Manakah yang berbentuk persegi?



Mengelompokkan Bangun Datar

Hubungkan benda-benda yang sama bentuknya!

