













TABLA NUMÉRICA

Descubre y escribe los números que faltan en los cuadros de la parte inferior.

1	2	3		5	6	7	8	9
	11	12	13	14	15	16		18
19	20	21	22		24	25	26	27
28		30	31	32	33	34	35	36
37	38	39	40	41	42		44	45
46	47	48		50	51	52	53	54
55	56	57	58	59		61	62	63
64	65		67	68	69	70		72

 <input type="text"/>	 <input type="text"/>	 <input type="text"/>	 <input type="text"/>	 <input type="text"/>
 <input type="text"/>	 <input type="text"/>	 <input type="text"/>	 <input type="text"/>	 <input type="text"/>

