

Tên con là

TOÁN

Ôn tập tuần 31



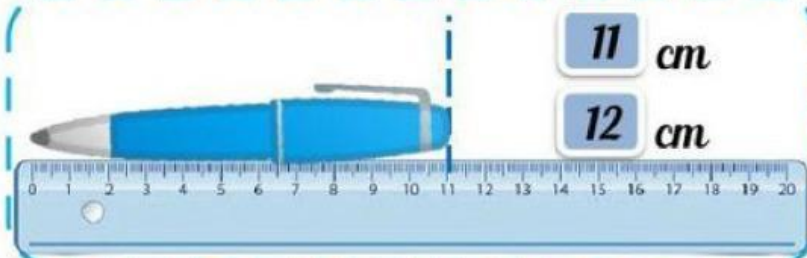
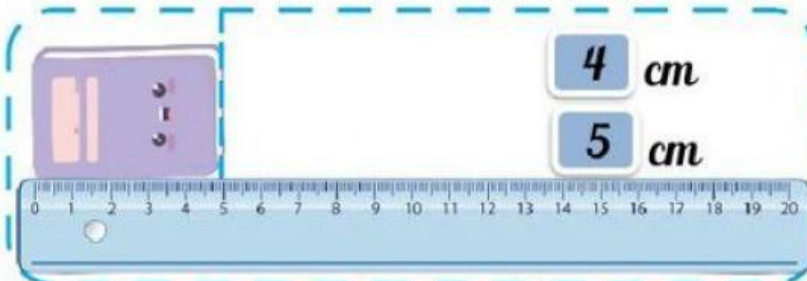
ĐI NHÀ SÁCH CÙNG OGGY

Chào các bạn! Mình là Oggy. Chúng mình cùng tham gia các thử thách về "Độ dài" xem ai làm bài giỏi hơn nhé! Cùng theo chân mình nào!



TRẠM 1

Chọn số đo độ dài thích hợp cho mỗi đồ vật



TRẠM 2

Đúng ghi Đ, sai ghi S



Thỏ bông cao nhất.

Quả bóng thấp nhất.


Robot thấp hơn tên lửa.

Gấu bông cao bằng búp bê.



TRẠM 3

Viết số thích hợp vào chỗ chấm



TRẠM 4

Xem tranh. Điền tên thích hợp vào chỗ chấm



Bạn thấp nhất:



Bạn cao nhất:



TRẠM 5

Lúc đầu, ốc sên bò được 4 cm. Sau đó, bò tiếp được 3 cm.

Hỏi ốc sên bò được tất cả bao nhiêu xăng - ti - mét?



Phép tính:

$$\square \bigcirc \square = \square$$

Trả lời: Con ốc sên bò được tất cả ... cm.