



Kurikulum
Merdeka

LKPD

PECAHAN

MATEMATIKA

KELAS II SD/MI



Disusun Oleh:
Ariska Fadhilla Z
24129349

LKPD I: SETENGAH DARI BENDA UTUH (PERTEMUAN I)

Nama: _____ Kelompok: _____

Tujuan: Memahami konsep setengah dari benda utuh

KEGIATAN I








Petunjuk: Lipat kertas yang diberikan guru menjadi 2 bagian sama, lalu gunting!

1. Berapa bagian yang terbentuk? _____ bagian
2. Apakah kedua bagian sama besar? _____
3. Satu bagian disebut: _____



KEGIATAN 2

Berilah tanda centang pada gambar pizza yang merupakan pecahan setengah!




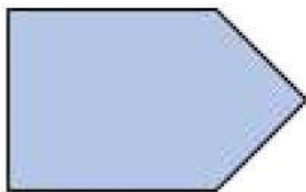
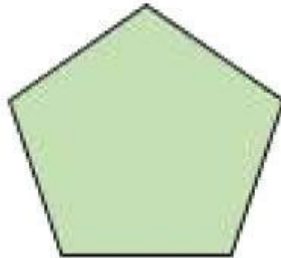



KEGIATAN 3

Petunjuk: Tempelkan hasil guntingan setengah dari berbagai bentuk yang diberikan guru!



Bahan Tempel



REFLEKSI

Refleksi: Hari ini saya belajar tentang: _____

Yang saya suka: _____