







من ١: أكتب الكسر الذي يمثل الجزء المظلل مستعملًا الصورة الاعتيادية والصورة العشرية:




من ٢: أكتب الكسر الاعتيادي على صورة كسر عشري:


..... =  $\frac{8}{100}$  


..... =  $\frac{48}{100}$  

..... =  $\frac{70}{100}$  

..... =  $\frac{16}{100}$  

من ٣: أكتب الكسر العشري على صورة كسر اعتيادي:

..... = ٠,٠٩ 

..... = ٠,٦٤ 

(مهارات التفكير العليا) : ثلاثة من هذه الكسور لها خاصية مشتركة. أحدد هذه الكسور.

تم أوضح إجابتي. 

.....	.....	.....	.....
.....	.....	.....	.....

التغذية الراجعة لمعلمي:

التطوير

- سيتم تزويدك بأنشطة تتحدى قدراتك  
 سيتم تزويدك بتدريبات إثرائية لتعزيز المهارة  
 سيتم تزويدك بأنشطة علاجية

الوصف والتعزيز

انتقل نام. حشوت المثلثين بجداية  
 انتقل نام. حشوت المثلثين بجداية  
 انتقل نام. حشوت المثلثين بجداية

LIVEWORKSHEETS