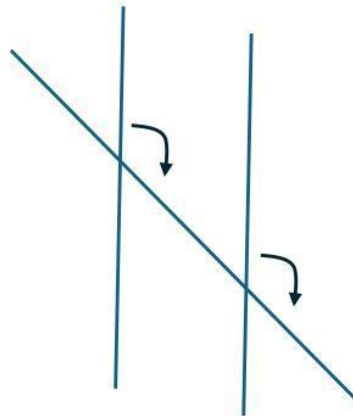
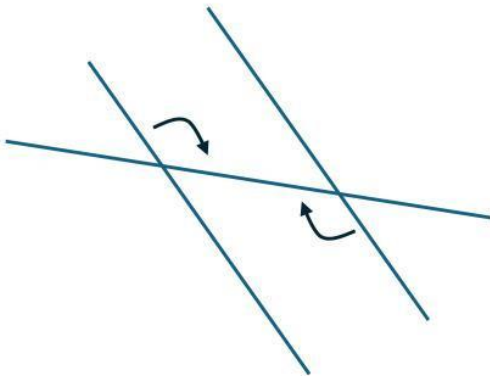
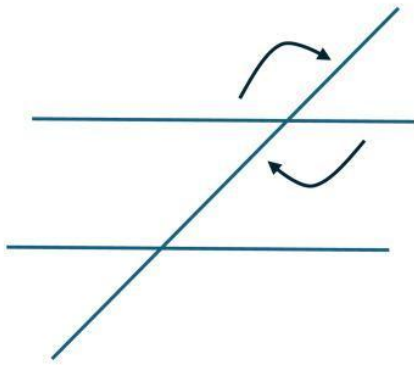
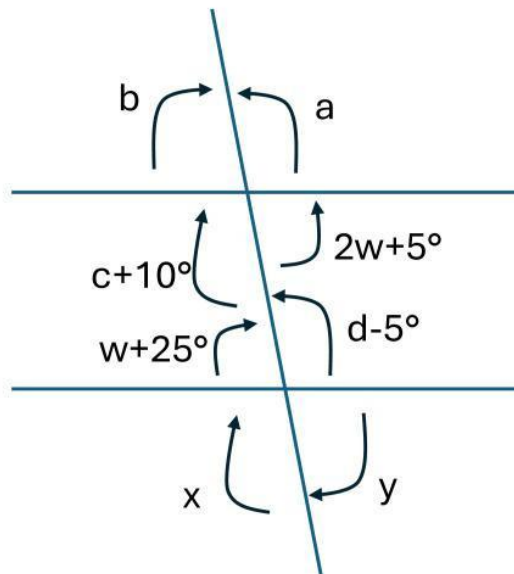


Observa el esquema y elige el nombre de la relación entre los ángulos marcados



Según las relaciones de los ángulos, menciona cuál enunciado es el correcto con el esquema dado.



- $a+b = 180^\circ$
- $c+10^\circ = d-5^\circ$
- $b = x$
- $y+x = 90^\circ$
- $w+25^\circ = 2w-25^\circ$
- $w=50$
- $a$  con  $b$  son correspondientes