

LKPD

ILMU PENGETAHUAN ALAM

STRUKTUR BUMI DAN
PERKEMBANGANNYA



Kelas: VIII

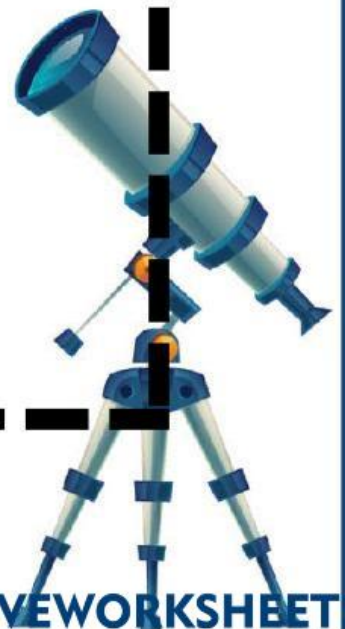
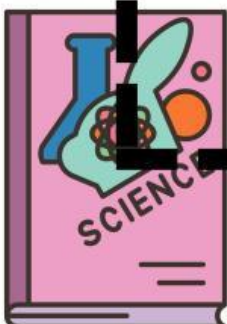
Nama Penyusun : Esa Shohifah, S.Pd

PETUNJUK Pengerjaan

Bacalah petunjuk pengerjaan di bawah ini dengan seksama !

1. Siapkan buku Paket IPA Kelas 8.
2. Buka Bab 5 “Struktur Bumi dan Perkembangannya”.
3. Sebelum memulai pengerjaan jangan lupa untuk berdoa.
4. Setelah membaca petunjuk pengerjaan, silahkan simak video materi yang sudah disediakan.
5. Apabila ada kendala pada proses pengerjaan silahkan hubungi Bu Esa via WA .
6. Kemudian kerjakan setiap pertanyaan pada LKPD.
7. Pastikan semua soal terjawab.
8. Selamat mengerjakan

Vidio Pembelajaran



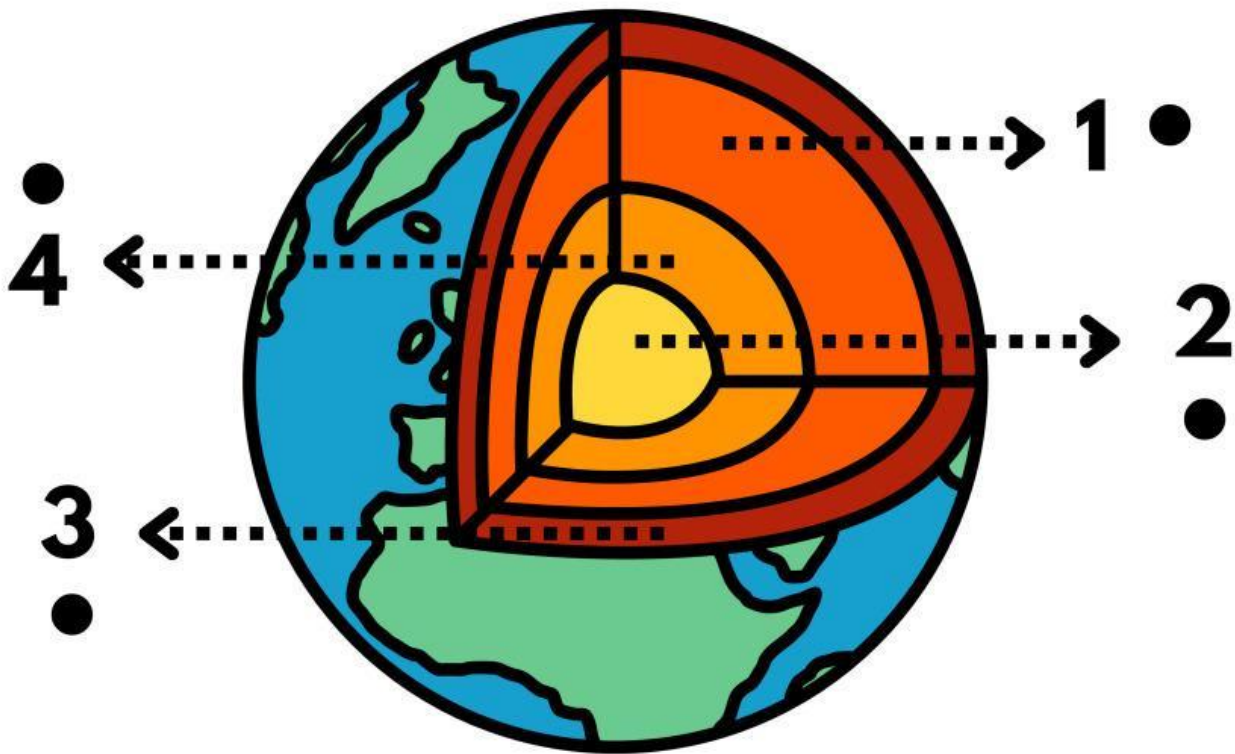
BAGIAN - BAGIAN BUMI

Hubungkan titik angka ke titik nama bagian bumi dengan tepat !

Inti Dalam



Kerak Bumi



Mantel Bumi



Inti Luar



SOAL PILIHAN GANDA 1

Petunjuk: Pilihlah jawaban yang paling tepat dengan memilih pada kolom yang disediakan pada huruf a, b, c, atau d!

1. Lapisan paling luar Bumi adalah...

- A. Inti Bumi
- B. Mantel Bumi
- C. Kerak Bumi
- D. Magma

2. Kerak Bumi merupakan tempat...

- A. Inti Bumi berada
- B. Manusia hidup
- C. Magma
- D. Inti dalam Bumi

3. Lapisan di bawah kerak disebut...

- A. Inti Bumi
- B. Mantel Bumi
- C. Kerak Bumi
- D. Magma

4. Mantel Bumi berisi...

- A. Air
- B. Gas
- C. Magma
- D. Udara

5. Lapisan paling dalam adalah...

- A. Kerak Bumi
- B. Mantel Bumi
- C. Inti Bumi
- D. Atmosfer

SOAL PILIHAN GANDA 2

Petunjuk: Pilihlah jawaban yang paling tepat dengan memilih pada kolom yang disediakan pada huruf a, b, c, atau d!

6. Inti luar bersifat...

- | | |
|----------|---------|
| A. Padat | C. Gas |
| B. Cair | D. Beku |

7. Inti dalam bersifat...

- | | |
|----------|----------|
| A. Cair | C. Gas |
| B. Padat | D. Lunak |

8. Lapisan yang paling panas adalah...

- | | |
|----------------|--------------|
| A. Kerak Bumi | C. Inti Bumi |
| B. Mantel Bumi | D. Atmosfer |

9. Mantel Bumi berfungsi untuk...

- | | |
|-------------------------|--------------------|
| A. Tempat hidup manusia | C. Menyimpan air |
| B. Pergerakan lempeng | D. Menyimpan udara |

10. Kerak Bumi termasuk lapisan yang...

- | | |
|----------|----------|
| A. Tebal | C. Cair |
| B. Tipis | D. Panas |

SOAL ISIAN SINGKAT

Petunjuk: Jawablah pertanyaan di bawah ini dengan pilihan jawaban yang disediakan, tarik pilihan jawaban ke kolom jawaban!

1. Gerak Bumi pada poros disebut ...	<input type="text"/>	<input type="checkbox"/> mantel bumi
2. Tempat manusia hidup adalah ...	<input type="text"/>	<input type="checkbox"/> inti dalam
3. Lapisan di bawah kerak disebut ...	<input type="text"/>	<input type="checkbox"/> rotasi
4. Mantel Bumi berisi ...	<input type="text"/>	<input type="checkbox"/> padat
5. Lapisan paling dalam disebut ...	<input type="text"/>	<input type="checkbox"/> tipis
6. Inti luar Bumi bersifat ...	<input type="text"/>	<input type="checkbox"/> Bumi
7. Inti dalam Bumi bersifat ...	<input type="text"/>	<input type="checkbox"/> silikat
8. Lapisan paling panas adalah ...	<input type="text"/>	<input type="checkbox"/> tekanan magma
9. Kerak termasuk lapisan yang ...	<input type="text"/>	<input type="checkbox"/> cair
10. Gunung meletus terjadi karena ...	<input type="text"/>	

Proses Terjadinya Bumi dan Susunan Bumi

Teka Teki Silang



Mendatar

- 2 Dalam salah satu teori, bumi terjadi dari
- 3 Bentuk bumi kita.
- 5 Lapisan di atas stratosfer.
- 6 Bagian bumi di bawah kerak bumi.
- 7 Lapisan terluar bumi

Menurun

- 1 Lapisan bumi paling dalam.
- 2 Lapisan udara pelindung bumi.
- 3 Nama planet yang kita tempati.
- 4 Sebagian besar kerak benua terbentuk dari batuan