

LKPD

ILMU PENGETAHUAN ALAM

Tema Sistem Pernafasan Manusia



Nama:

Kelas:

MENGENAL ORGAN PERNAPASAN

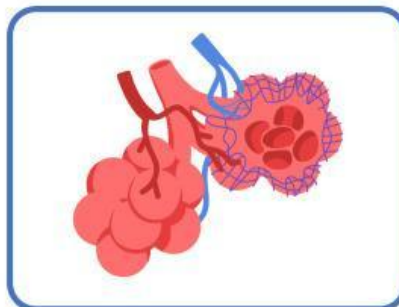
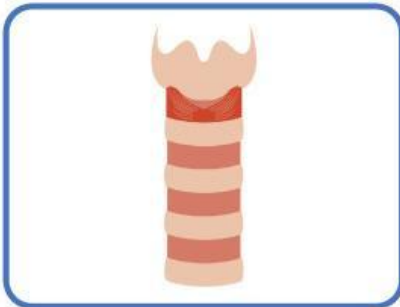
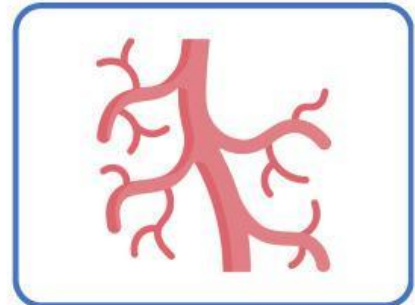
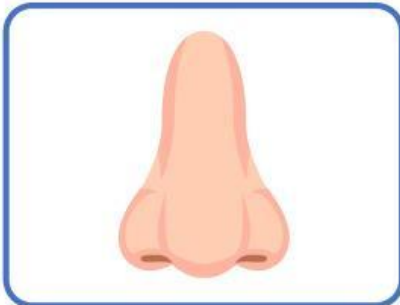
Nama:

Kelas:



Panduan

Amati gambar organ-organ pernafasan manusia.
Lengkapi nama-nama organ pernafasan di bawah ini!



MENCOCOKKAN ORGAN PERNAPASAN

Nama:

Kelas:

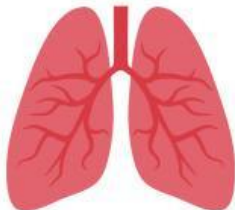


Panduan

Amati gambar organ-organ pernafasan manusia di sebelah kiri. Hubungkan dengan nama organ tersebut.



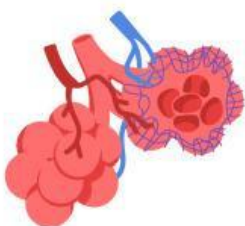
Faring



Paru-Paru



Hidung



Alveolus

FUNGSI ORGAN PERNAPASAN

Nama:

Kelas:



Panduan

Tuliskan fungsinya organ-organ pernafsan manusia, yang sesuai dengan organ tersebut.

ORGAN	FUNGSI
Hidung	
Faring	
Laring	
Trakea	
Paru-Paru	

KUIZZ

1. Mengapa merokok sangat berbahaya bagi sistem pernapasan? Jelaskan dampak buruk merokok terhadap organ-organ pernapasan dan kesehatan secara umum.

Jawab :

Panduan

2. Bagaimana upaya yang dapat dilakukan untuk menjaga kesehatan sistem pernapasan?

Jawab :