

LKPD

Matematika

Penjumlahan dan Pengurangan



$5 + 5 = ?$
 $7 - 2 = ?$

Nama:

Kelas:

Belajar Menghitung


Mari kita hitung jumlah hewan-hewan tersebut dan mencatat jumlah yang tepat.




=




=



=



=



=

Belajar Menghitung

Hitung jumlah buah sesuai gambar. Gunakan operasi tambah (+) dan kurang (-), lalu tuliskan jawabannya di kotak!

$$\begin{array}{|c|} \hline \text{1 Pineapple} \\ \hline \end{array} + \begin{array}{|c|} \hline \text{2 Mangoes} \\ \hline \end{array} - \begin{array}{|c|} \hline \text{2 Strawberries} \\ \hline \end{array} = \square$$

$$\begin{array}{|c|} \hline \text{4 Bananas} \\ \hline \end{array} - \begin{array}{|c|} \hline \text{2 Lemons} \\ \hline \end{array} + \begin{array}{|c|} \hline \text{4 Apples} \\ \hline \end{array} = \square$$

$$\begin{array}{|c|} \hline \text{2 Strawberries} \\ \hline \end{array} + \begin{array}{|c|} \hline \text{6 Pineapples} \\ \hline \end{array} - \begin{array}{|c|} \hline \text{2 Mangoes} \\ \hline \end{array} = \square$$

$$\begin{array}{|c|} \hline \text{5 Apples} \\ \hline \end{array} - \begin{array}{|c|} \hline \text{1 Lemon} \\ \hline \end{array} + \begin{array}{|c|} \hline \text{4 Bananas} \\ \hline \end{array} = \square$$

$$\begin{array}{|c|} \hline \text{4 Pineapples} \\ \hline \end{array} + \begin{array}{|c|} \hline \text{4 Bananas} \\ \hline \end{array} - \begin{array}{|c|} \hline \text{4 Apples} \\ \hline \end{array} = \square$$

Ayo Berlatih Hitung Cepat!

Hitung hasil penjumlahan dan pengurangan di bawah ini.
Tulis jawabannya di kotak!

$2 + 4 = \square$

$3 + 5 = \square$

$2 + 8 = \square$

$10 + 5 = \square$

$8 + 3 = \square$

$9 + 5 = \square$

Belajar Penjumlahan dan Pengurangan

Mari kita hitung jumlah benda pada soal berikut dan tuliskan jawabannya!

1. Siti punya 3 pensil. Ia membeli 2 pensil lagi.
Berapa jumlah pensil Siti sekarang?

2. Riko membawa 5 balon ke taman. Tiga balon terbang.
Berapa balon yang tersisa?

3. Lani memiliki 4 kue. Ibunya memberinya 3 kue lagi.
Berapa jumlah kue Lani sekarang?

4. Di meja ada 6 jeruk. Adik memakan 2 jeruk.
Berapa jeruk yang tersisa di meja?

5. Budi memetik 3 bunga. Kemudian ia memetik 4 bunga lagi.
Berapa jumlah bunga yang dipetik Budi?

6. Rani membawa 7 krayon. Dua krayon dipinjam teman.
Berapa krayon yang masih dibawa Rani?
