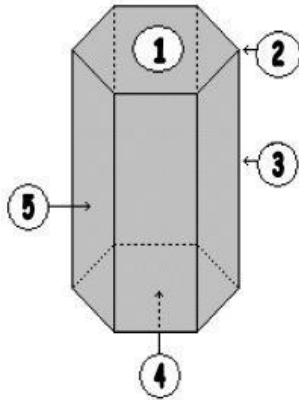


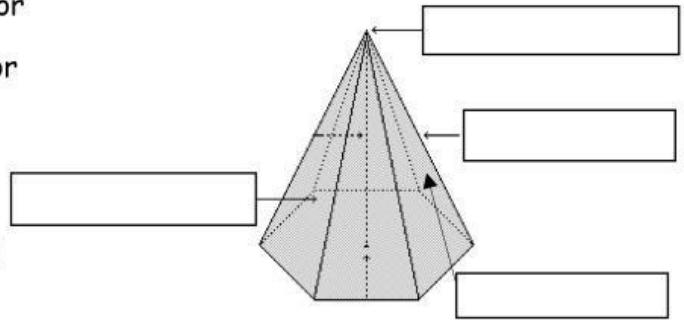
**PRISMAS Y PIRÁMIDES** (L. Mat\_Desafios Pág. 57-58)

I.- Identifica los elementos de un prisma:

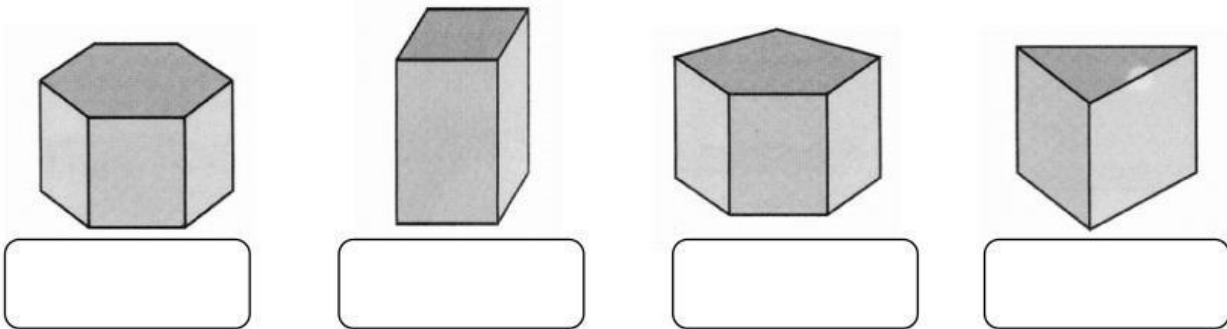


- ( ) Base superior
- ( ) Base inferior
- ( ) Arista
- ( ) Vértice
- ( ) Cara lateral

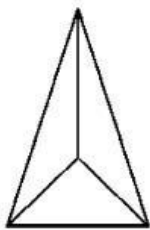
II.- Escribe el nombre de los elementos de una pirámide



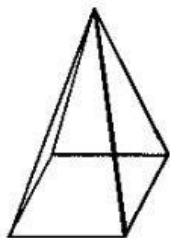
II.- Escribe el nombre de los siguientes cuerpos geométricos:



III.- Analiza los siguientes cuerpos geométricos, ilumina y contesta



- 1.- Nombre del cuerpo: \_\_\_\_\_
- 2.- Número de aristas: \_\_\_\_\_
- 3.- Número de vértices: \_\_\_\_\_
- 4.- Número de caras laterales: \_\_\_\_\_



- 1.- Nombre del cuerpo: \_\_\_\_\_
- 2.- Número de aristas: \_\_\_\_\_
- 3.- Número de vértices: \_\_\_\_\_
- 4.- Número de caras laterales: \_\_\_\_\_