











LKPD PERANGKAT KERAS (HARDWARE) INFORMATIKA - KELAS X

A. Perhatikan gambar perangkat keras. Isi nama perangkat dari jawaban yang telah disediakan. Selanjutnya kategorikan perangkat keras tersebut berdasarkan fungsinya dengan memberi tanda centang.

Kelompok:

Kelas:

Anggota:

PERANGKAT KERAS	NAMA PERANGKAT	INPUT	PROSESOR/ PEMROSESAN	OUTPUT	STORAGE/ MEMORI
					
					
					
					
					
					
					
					
					
					

Motherboard

Monitor

Printer

Flash Disk

Mouse

Speaker

CPU

Hard Drive

RAM

Keyboard

B. Hubungkan kolom komponen perangkat keras dengan fungsi yang tepat!

Perangkat Keras Input

Otak komputer yang memproses dan mengolah data

Perangkat Keras Processing

Menyimpan data secara permanen atau sementara

Perangkat Keras Output

Memasukkan data atau perintah ke dalam komputer

Perangkat Keras Storage

Menampilkan hasil pemrosesan data kepada pengguna