

# LKPD

## ILMU PENGETAHUAN ALAM

Nama : \_\_\_\_\_

Kelas : \_\_\_\_\_

AYO  
MENGENAL  
IPA!

# BERHITUNG HEWAN MENGGUNAKAN DIAGRAM TULUS

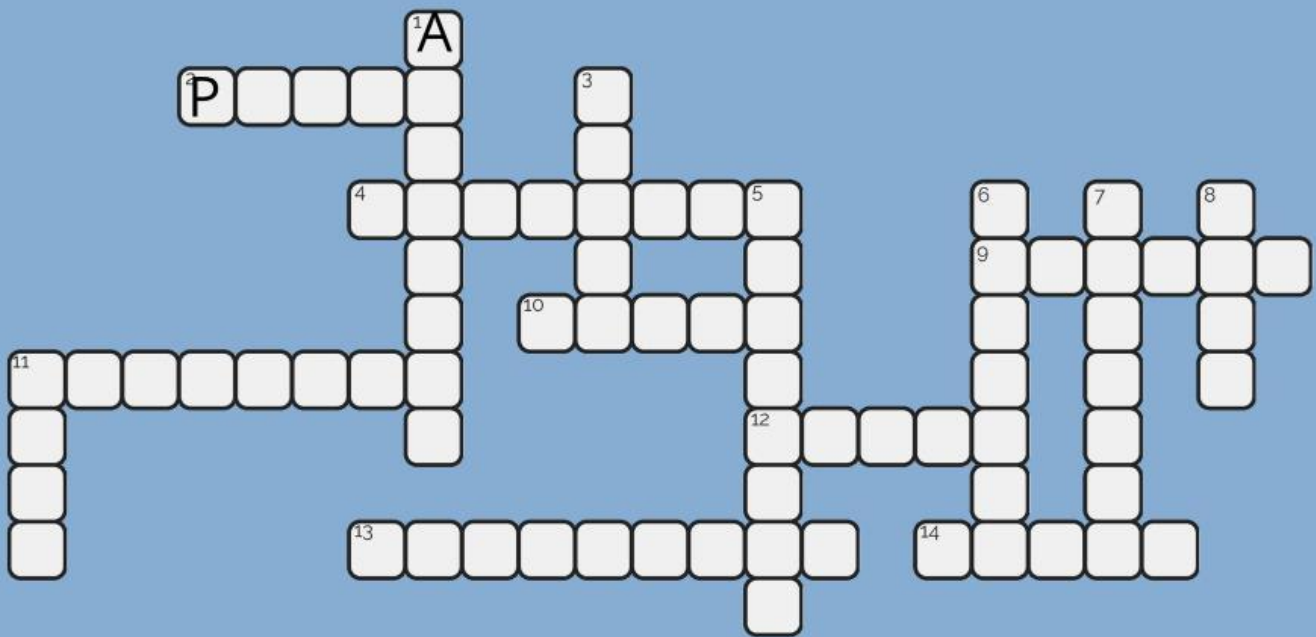
Perhatikan Peternakan Ayah di bawah ini. Hitunglah hewan ternak milik Ayah dan tuliskan pada tabel di bawah ini dengan diagram turus.



Nama Hewan	Turus	Banyak Hewan
Ayam		
Kambing		
Bebek		
Babi		



# SISTEM TATA SURYA



## Menurun

- Planet yang memiliki suhu terpanas di tata surya.
- Planet terjauh di tata surya.
- Planet yang memiliki kemiringan sumbu rotasi yang ekstrem.
- Benda langit yang terdiri dari es, debu, dan gas yang mengorbit matahari.
- Bintang pusat tata surya.
- Kendaraan yang digunakan untuk perjalanan luar angkasa.
- Planet terdekat dengan matahari.
- Jalur yang diambil oleh sebuah benda langit saat mengelilingi benda lain.




## Mendatar

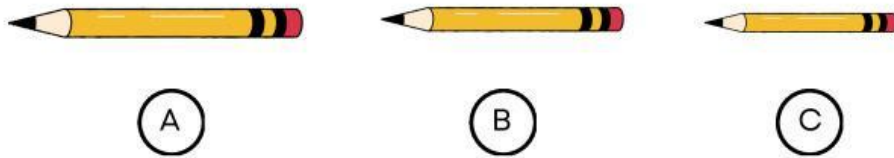
- Benda langit kecil dan berbatu yang mengorbit matahari.
- Dulu dianggap sebagai planet kesembilan, sekarang diklasifikasikan sebagai planet katai.
- Planet yang dikenal dengan cincin yang indah.
- Planet terbesar di tata surya.
- Kumpulan besar bintang, gas, debu, dan materi gelap yang terikat oleh gravitasi.
- Planet tempat tinggal manusia.
- Planet yang dijuluki planet merah.

# MENGURUTKAN BENDA DENGAN PENGUKURAN

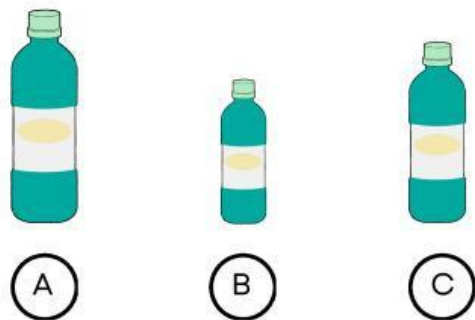
Perhatikan gambar berikut. Jawablah pertanyaan dibawah ini.



Urutkan pohon dari yang paling rendah \_\_\_\_\_



Urutkan pensil dari yang paling panjang \_\_\_\_\_



Urutkan botol minum dari yang paling pendek \_\_\_\_\_

# MENGENAL BAGIAN-BAGIAN TUMBUHAN

Cocokkan gambar bagian tumbuhan di bawah ini dengan nama yang benar!



AKAR



BATANG

BUAH



BATANG

BUAH



BUNGA

DAUN

BUNGA

# RANTAI MAKANAN

Amatilah gambar rantai makanan berikut dan letakkanlah kotak pada posisi yang tepat!

Produsen

Konsumen Primer

Konsumen Sekunder

Konsumen Tersier

Konsumen Final

Dekomposer

